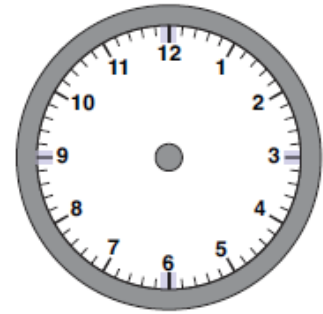




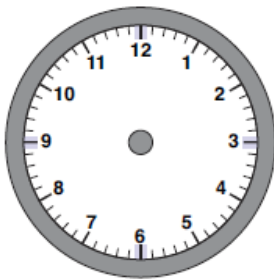
Nome: _____ Data: ___/___/___

1. Usando o mostrador de relógio ao lado, desenha os seus ponteiros, de modo que formem um ângulo reto.

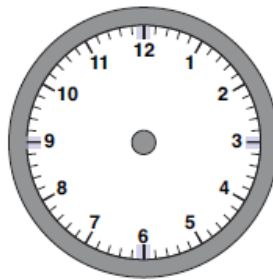


- 1.1. Que hora marca agora o relógio?

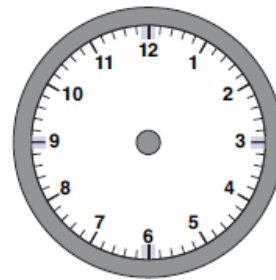
2. Desenha os ponteiros nos seguintes mostradores de relógio, de modo que marquem as horas indicadas.



8 h 15 min



17 h 30 min



23 h 45 min

3. Completa as igualdades.

1 dia = _____ horas.

1 semana = _____ dias.

1 hora = _____ minutos.

1 ano = _____ ou _____ dias.

$\frac{1}{4}$ hora = _____ minutos.

$\frac{1}{2}$ hora = _____ minutos.

4. Completa as igualdades.

1 dia = _____ horas.

1 semana = _____ dias.

1 hora = _____ minutos.

1 ano = _____ ou _____ dias.

$\frac{1}{4}$ hora = _____ minutos.

$\frac{1}{2}$ hora = _____ minutos.

5. Completa com os nomes de dias da semana.

Hoje é _____ e vou ao cinema.

Ontem foi _____, tive aulas até tarde.

Amanhã, _____, vou visitar os meus avós.

6. Relaciona os meses do ano com os números de dias.

abril	●	●	28 ou 29 dias
fevereiro	●		
agosto	●	●	30 dias
novembro	●		
maio	●	●	31 dias

7. O quadro que se segue representa o horário da turma do Carlos, que frequenta o 5º ano de escolaridade.

Horas	2.ª feira	3.ª feira	4.ª feira	5.ª feira	6.ª feira
9:00 – 9:50	Língua Portuguesa	Educação Física	Matemática	Educação Física	Educação Musical
10:00 – 10:50					Língua Portuguesa
11:10 – 12:00	Matemática	Educação Visual e Tecnológica	História e Geografia de Portugal	Inglês	Ciências da Natureza
12:10 – 13:00					
14:25 – 15:15	Inglês	Ciências da Natureza	Língua Portuguesa	Educação Visual e Tecnológica	História e Geografia de Portugal
15:25 – 16:15					
16:25 – 17:15		Educação Musical			

- 7.1. Na terça-feira, a que hora começa e a que horas termina a aula de Educação Visual e Tecnológica?

- 7.2. De que disciplina é a última aula de quarta-feira?

- 7.3. Em que dias da semana é que o Carlos tem Educação Física?

- 7.4. Qual o dia da semana em que as aulas do Carlos terminam mais tarde?

- 7.5. A que horas terminam as aulas nesse dia?

- 7.6. Quando sai das aulas, o Carlos vai directamente para casa. Demora no percurso escola-casa 35 minutos. A que horas chega a casa às quintas-feiras?
