



Nome: _____

Data: ___/___/___

1. Observa e completa segundo o exemplo.

	D.	U.	
85	8	5	Oitenta e cinco
92			
95			
96			
98			
99			

2. Decompõe os seguintes números.

$$84 = 80 + \square$$

$$93 = \square + \square$$

$$65 = 60 + \square$$

$$78 = \square + \square$$

$$74 = \square + \square$$

$$99 = \square + \square$$

$$97 = \square + \square$$

$$86 = \square + \square$$

3. Completa.

+	1	2	3	4	5	6	7	8	9	10	11
1	2			5		7			10		12
2			5		7			10		12	
3		5		7			10		12		
4	5		7			10		12			15
5		7			10		12			15	
6	7			10		12			15		
7			10		12			15			

4. Escreve os números que estão imediatamente antes e depois destes.

antes		depois
	86	
	92	
	97	
	99	

antes		depois
	98	
	85	
	93	
	82	

antes		depois
	89	
	95	
	96	
	84	

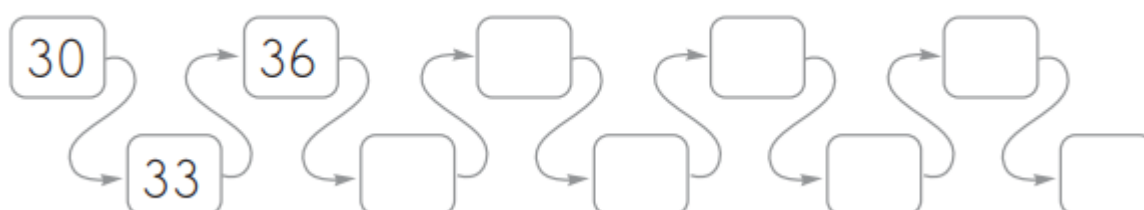
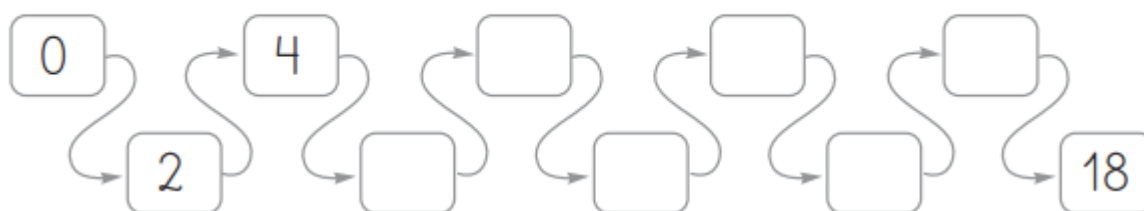
5. Risca as operações cujo resultado não é o indicado.

80
$40 + 40$
$43 + 37$
$42 + 36$
$45 + 35$
$46 + 33$

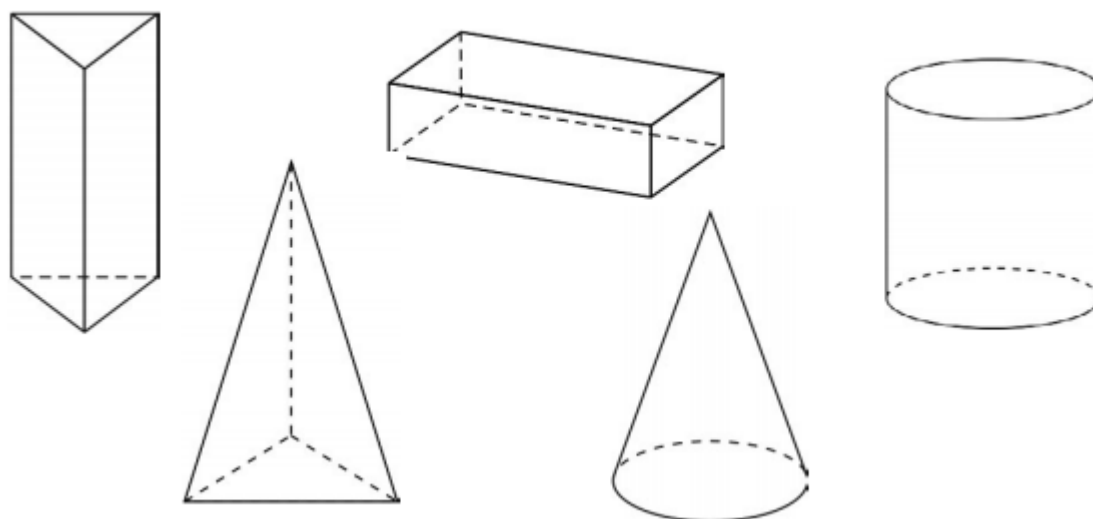
95
$50 + 45$
$54 + 46$
$47 + 48$
$56 + 39$
$55 + 40$

100
$50 + 50$
$57 + 43$
$58 + 55$
$66 + 34$
$77 + 23$


6. Completa as sequências.



7. Pinta os sólidos geométricos que têm pelo menos uma superfície curva.




8. Pinta o interior das linhas fechadas.



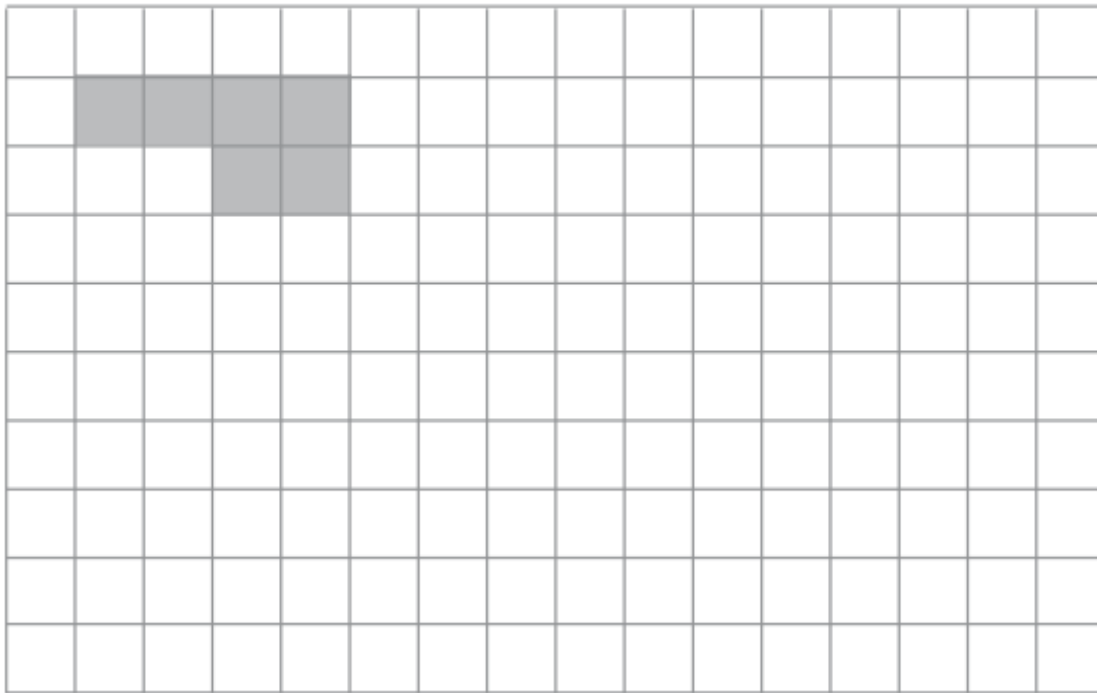
9. Pinta a figura, de acordo com o código.

Código:

- - amarelo
- △ - vermelho
- - azul
- ▭ - verde



10. Descobre e constrói 5 maneiras diferentes de juntar 6  .



11. Completa.



$$\square + \square + \square + \square = \square \text{ €}$$



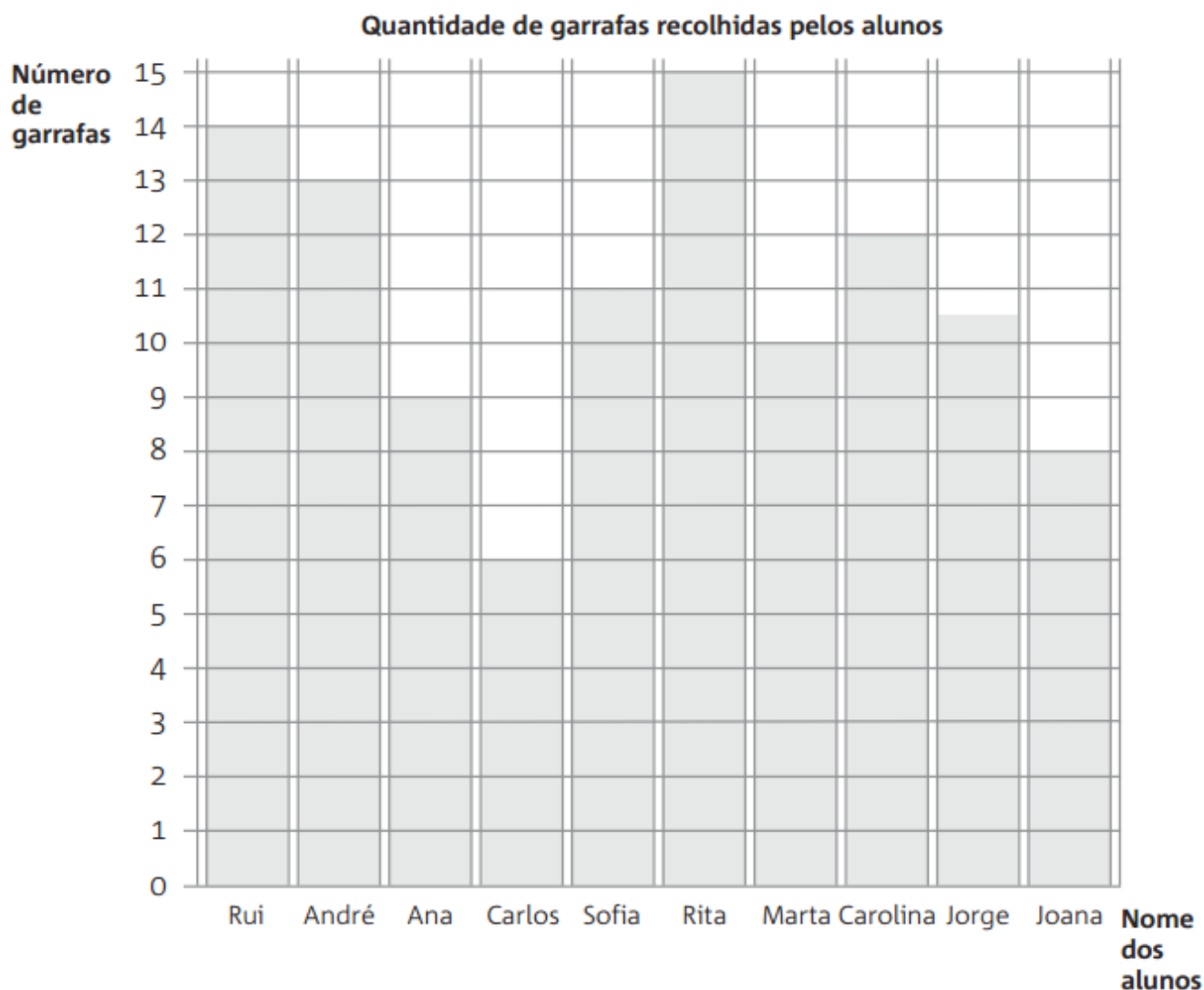
$$\square + \square + \square + \square = \square \text{ €}$$

12. Escreve...

o maior número formado por dois algarismos.

o menor número formado por dois algarismos.

13. Na escola da Carochinha recolheram-se garrafas de plástico para reciclar. Observa o gráfico das garrafas recolhidas e responde às perguntas.



- Qual das meninas recolheu mais garrafas?

- Qual a criança que recolheu menos?

- A criança que recolheu mais garrafas foi um rapaz ou uma rapariga?

- Quantas garrafas recolheram, ao todo?

14. O leite de 1 pacote enche 4 copos de leite.




- Completa:

Pacotes de leite	1	2	3	4	5
Copos	4				

- Com 5 pacotes de leite, quantos copos se conseguem encher?

Resposta: _____

15. O Pedro tem 50 euros.
Comprou os brinquedos representados
nas figuras.
Quanto pagou pelos brinquedos, no total?



Resposta: _____

- Quanto dinheiro lhe sobrou?

Resposta: _____