



Nome: _____

Data: ___/___/___

1. Observa e completa.

40 = 4 dezenas e 0 unidades

44 = _____ dezenas e _____ unidades

47 = _____

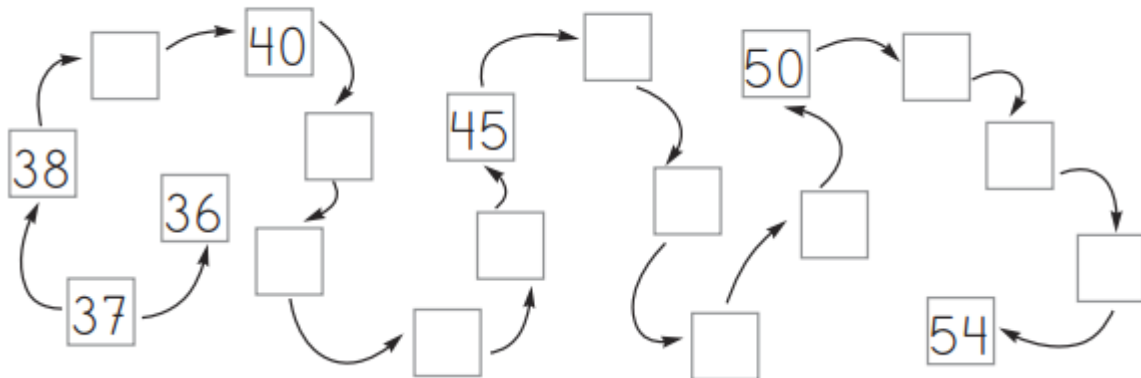
43 = _____

45 = _____

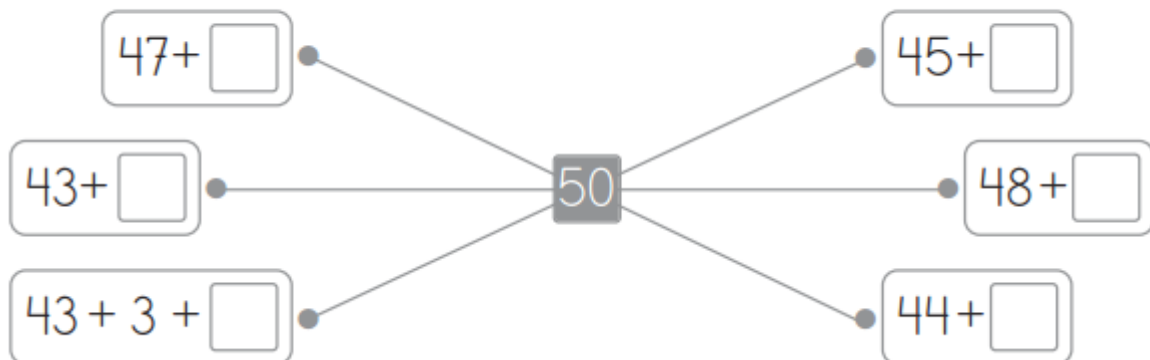
49 = _____



2. Completa a sequência por ordem **crecente**.

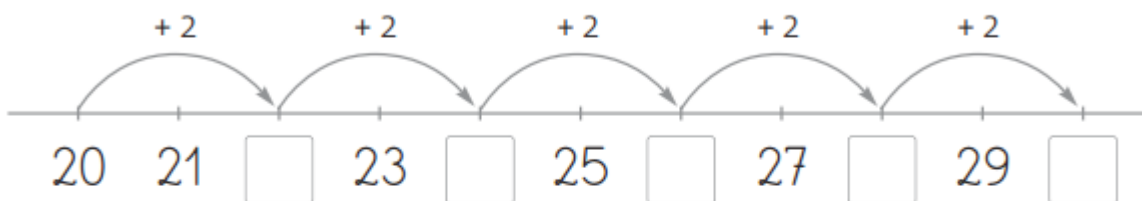


3. Observa e completa as adições.

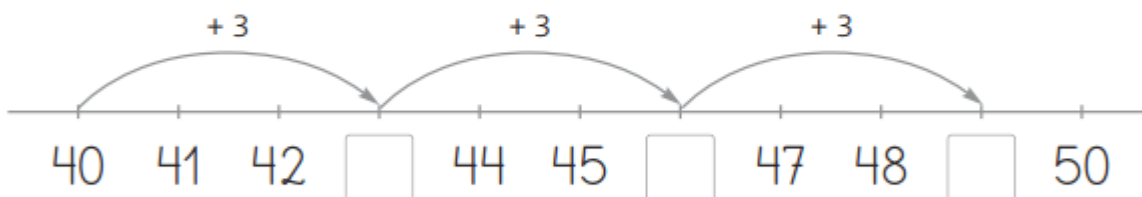


4. Completa as rectas com números...

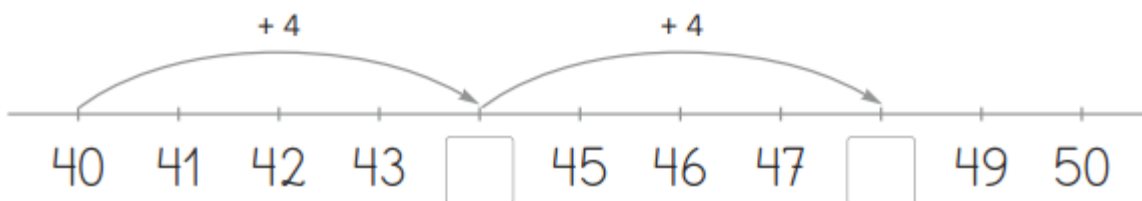
de 2 em 2.



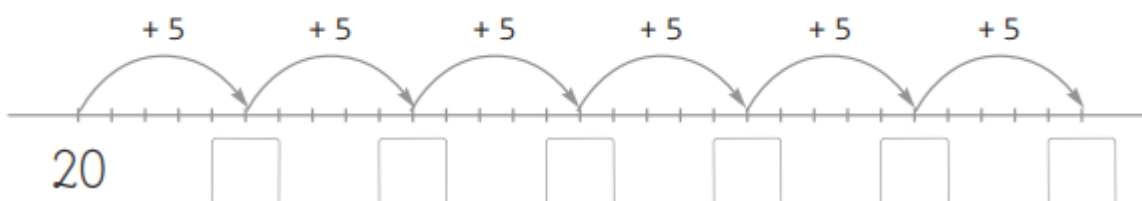
de 3 em 3.



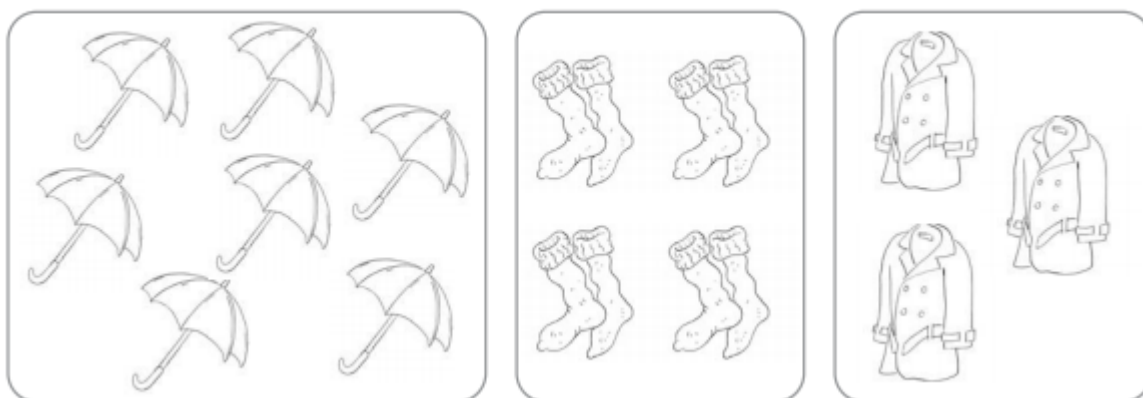
de 4 em 4.



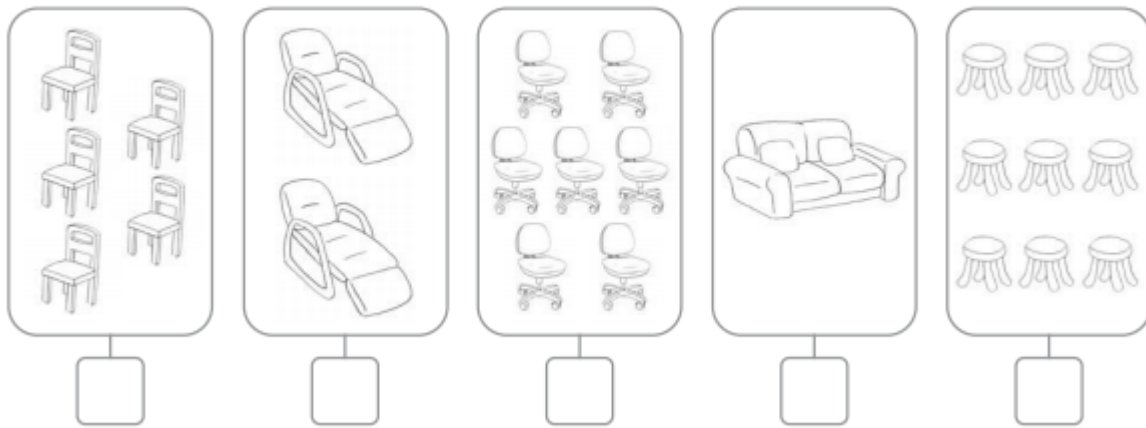
de 5 em 5.



5. Pinta os elementos que se agrupam aos pares.



6. Assinala com **X** os grupos cujo número de elementos é ímpar.

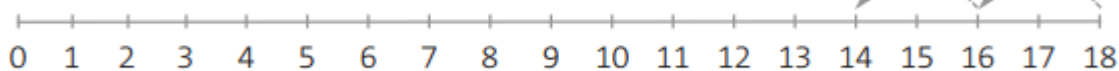


7. Completa com os números que faltam.

$$\square + 4 = 45 \quad 48 + \square = 51 \quad \square + 5 = 45$$

$$8 + \square = 42 \quad 5 + \square = 48 \quad \square + 4 = 46$$

8. O Luís desce as escadas de dois em dois degraus. Observa e regista a sequência numérica.



18 16 14

9. Efectua as decomposições.

$$49 = \boxed{45} + \boxed{2} + \square \quad 49 = \boxed{42} + \boxed{5} + \square$$

$$48 = \boxed{45} + \boxed{2} + \square \quad 48 = \boxed{42} + \square + \boxed{2}$$

$$47 = \boxed{42} + \square + \boxed{2} \quad 47 = \boxed{45} + \boxed{1} + \square$$

$$46 = \boxed{40} + \square + \boxed{3} \quad 46 = \boxed{43} + \boxed{2} + \square$$

- 10.** A Francisca tem 38 fotografias no álbum e 15 na secretária.
Quantas fotografias tem a Francisca, ao todo?



Resposta: A Francisca tem ao todo _____ fotografias.

- A Francisca ofereceu 12 à sua mãe.
Com quantas fotografias ficou?



Resposta: A Francisca ficou com _____ fotografias.

- 11.** Na escola do Guilherme há 78 alunos.

Na sala do 1.º ano há 14 alunos.

Na sala do 2.º ano há 18 alunos.

Na sala do 3.º ano há 22 alunos.

Quantos alunos frequentam a escola do Guilherme nestes três anos de escolaridade?

Resposta: _____

- Quantos alunos frequentam o 4.º ano?

Resposta: _____