



Nome: _____

Data: ___/___/___

1. Completa a recta numérica com os números em falta.



2. Preenche o quadro.



+	14	17	12	16	11	15	13	18	20
1		18		17			14		
2	16		14		13		15		22
3		20		19		18		21	

3. Observa e completa.

12 = 1 dezena e 2 unidades = doze

13 = _____ dezena e _____ unidades = _____

15 = _____ dezena e _____ unidades = _____

17 = _____ = _____

19 = _____ = _____


20 = _____ = _____

22 = _____ = _____

24 = _____ = _____

4. Continua a sequência.




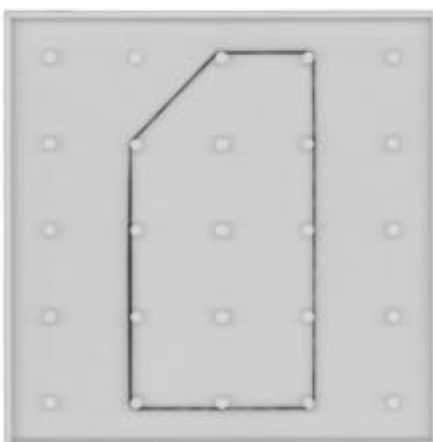


5. Forma um conjunto de uma dezena de  com uma linha fechada.



Quantas  ficaram no exterior da linha?

Resposta: Ficaram _____ no exterior da linha.

6. Desenha no papel pontado as figuras representadas nos geoplanos.



7. Relaciona correctamente, de acordo com o exemplo.

dezanove	•	•	22	•	•	2 dezenas e 1 unidade
vinte	•	•		•	•	2 dezenas e 4 unidades
vinte e um	•	•		•	•	2 dezenas e 2 unidades
vinte e dois	•	•		•	•	1 dezena e 9 unidades
vinte e três	•	•	19	•	•	2 dezenas e 3 unidades
vinte e quatro	•	•		•	•	2 dezenas

8. Decompõe o número 24 e indica as operações que fizeste.

24

12 + = 24 → +

6 + + + = → + + +

+ + = → + +

9. Completa as adições.

18

4 + 14

5 +


13 +

16 +

15 +

12 +

10. Escreve os algarismos que faltam e coloca os sinais $<$, $>$ ou $=$.



$24 \bigcirc 24$

$23 \bigcirc 24$

$22 \bigcirc 20$

$22 \bigcirc 22$

$23 \bigcirc 21$

$19 \bigcirc 20$

$17 \bigcirc 23$

$22 \bigcirc 19$

11. Das 19 rosas que a Dalila tinha, 4 murcharam e ela deitou-as no lixo. Com quantas rosas ficou a Dalila?



Resposta: A Dalila ficou com _____ rosas.

- Das rosas que não murcharam, a Dalila ficou com 9 e ofereceu as outras à sua mãe. Quantas rosas ofereceu a Dalila à sua mãe?

Resposta: A Dalila ofereceu _____ rosas à sua mãe.