



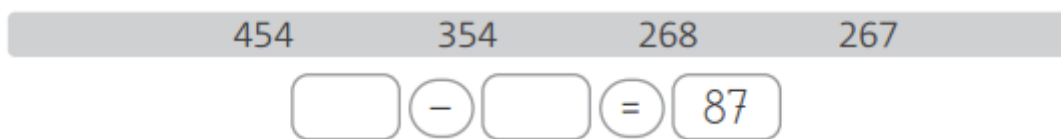
Nome: _____

Data: ___/___/___

1. Preenche os espaços.



2. Com os números seguintes completa a subtração.



3. Efectua as operações.

Completa com os nomes das parcelas.

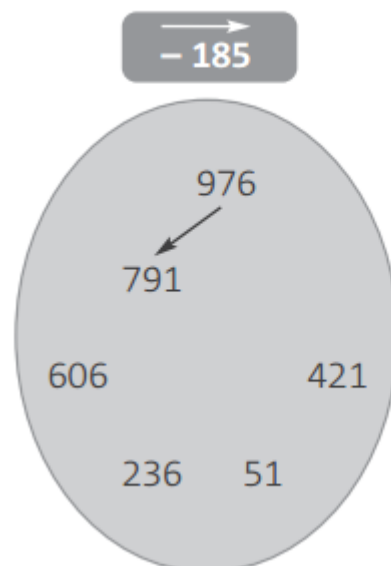
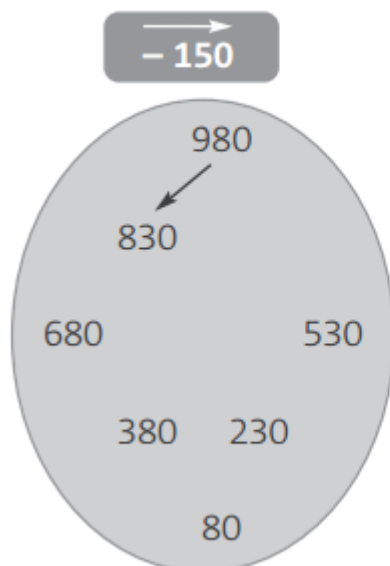
$751 - 263 = \underline{\quad}$

$946 - 538 = \underline{\quad}$


751	_____
- 263	_____
_____	_____

946	_____
- 538	_____
_____	_____

4. Traça setas a ligar os números. Tem em atenção o valor da seta de cada exercício.



5. Com o teu compasso cobre as linhas das circunferências.



5.1. Traça um raio na circunferência maior.

5.2. Traça um diâmetro numa das circunferências menores.

6. Copia os números para cada uma das operações.

$$\begin{array}{cccc} 2500 & 10 & 25 & 250 \\ \square & \times & \square & = & \square \end{array}$$

$$\begin{array}{cccc} 3500 & 27 & 35 & 100 \\ \square & : & \square & = & \square \end{array}$$

$$\begin{array}{cccc} 357 & 35\,700 & 200 & 100 \\ \square & \times & \square & = & \square \end{array}$$

$$\begin{array}{cccc} 9750 & 975 & 10 & 9700 \\ \square & : & \square & = & \square \end{array}$$

10. Para se preparar para um exame, o Pedro vai ter de ler um livro com 120 páginas numa semana. Observa e completa a tabela.

	Lê por dia	Faltam ainda ler
Domingo	20	$120 - 20 = 100$
Segunda-feira	12	$100 - \underline{\quad} = \underline{\quad}$
Terça-feira	18	$\underline{\quad} - \underline{\quad} = \underline{\quad}$
Quarta-feira	15	$\underline{\quad} - \underline{\quad} = \underline{\quad}$
Quinta-feira	10	$\underline{\quad} - \underline{\quad} = \underline{\quad}$
Sexta-feira	16	$\underline{\quad} - \underline{\quad} = \underline{\quad}$
Sábado	29	$\underline{\quad} - \underline{\quad} = \underline{\quad}$

Conseguiu ler as 120 páginas numa semana?

R.: _____

11. Um pescador pescou 325 peixes. Vendeu 238. Quantos peixes ainda tem por vender?



R.: _____

- 11.1. Sabendo que vendeu 38 peixes por 152 €, 100 peixes a 3 € cada e 100 peixes a 2 € cada, quanto apurou com a venda dos 238 peixes?

R.: _____