



Nome: _____

Data: ___/___/___

1. Desenha...

uma linha aberta.



uma linha fechada.




2. Observa a figura e assinala com **X** as respostas certas.



O  está no interior do aquário?


Sim

Não

O  está no exterior do aquário?

Sim




Não

O  está no exterior do aquário?

Sim

Não

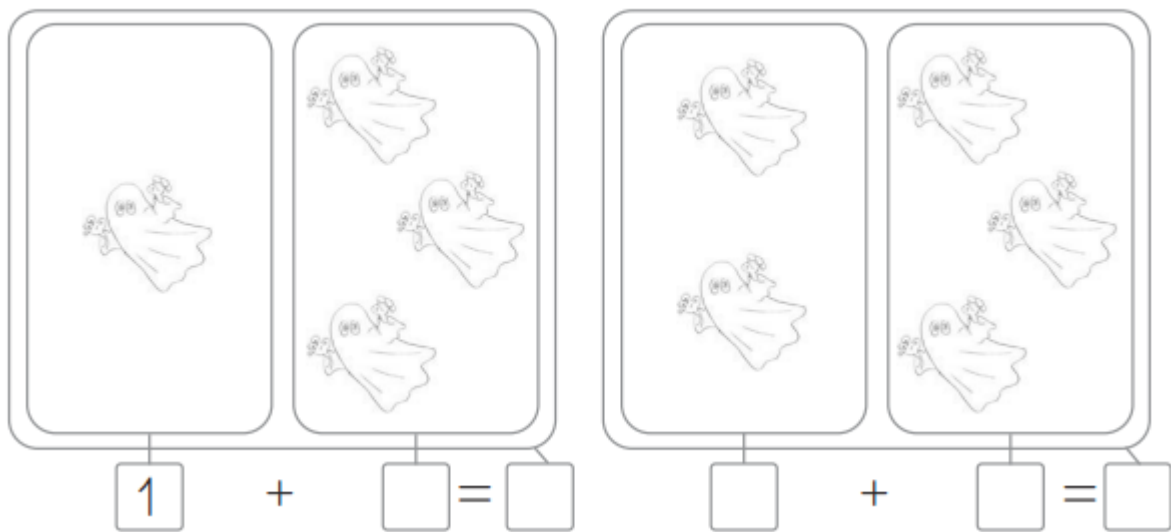
3. Pinta os elementos do grupo que tem menor quantidade.



4. Faz um | por cada elemento e escreve o número, seguindo o exemplo.



5. Observa e completa.



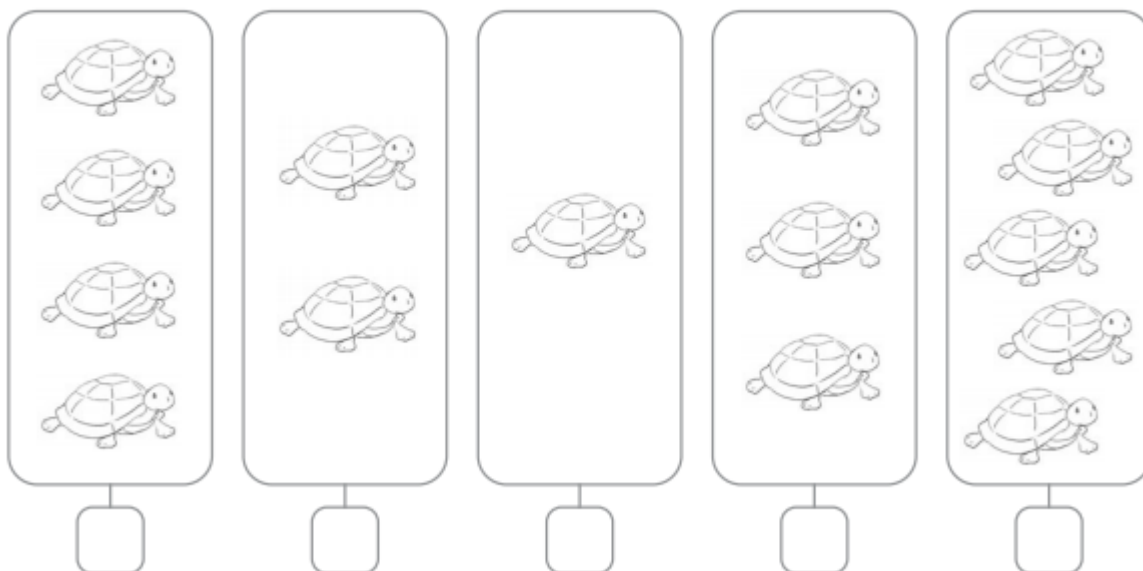
6. Completa.

$$1 + 2 = \square \quad 2 + 1 = \square \quad 2 + 2 = \square$$
$$\square + 3 = 4 \quad 3 + 1 = \square \quad \square + 1 = 5$$

7. Completa a sequência.

1	2	3		5	1	2		4	
---	---	---	--	---	---	---	--	---	--

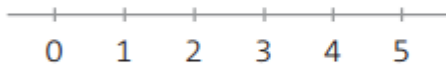
8. Conta e escreve o número de elementos nos .



9. Pinta os indicados.

3	<input checked="" type="checkbox"/>	<input checked="" type="checkbox"/>	<input checked="" type="checkbox"/>	<input type="checkbox"/>	<input type="checkbox"/>	<input type="checkbox"/>	<input type="checkbox"/>	<input type="checkbox"/>
2	<input type="checkbox"/>	<input type="checkbox"/>	<input type="checkbox"/>	<input type="checkbox"/>	<input type="checkbox"/>	<input type="checkbox"/>	<input type="checkbox"/>	<input type="checkbox"/>
5	<input type="checkbox"/>	<input type="checkbox"/>	<input type="checkbox"/>	<input type="checkbox"/>	<input type="checkbox"/>	<input type="checkbox"/>	<input type="checkbox"/>	<input type="checkbox"/>
4	<input type="checkbox"/>	<input type="checkbox"/>	<input type="checkbox"/>	<input type="checkbox"/>	<input type="checkbox"/>	<input type="checkbox"/>	<input type="checkbox"/>	<input type="checkbox"/>
1	<input type="checkbox"/>	<input type="checkbox"/>	<input type="checkbox"/>	<input type="checkbox"/>	<input type="checkbox"/>	<input type="checkbox"/>	<input type="checkbox"/>	<input type="checkbox"/>

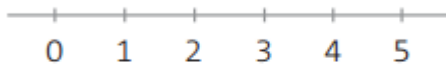
- 10.** O Rui tinha um pacote com 2 castanhas.
A sua prima deu-lhe mais 2 castanhas.
Com quantas castanhas ficou o Rui?
Utiliza a recta numérica e o colar de contas
para descobrires a resposta.



$$\square \bigcirc \square = \square$$

Resposta: O Rui ficou com _____ castanhas.

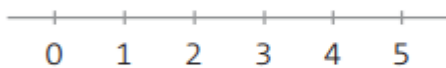

- A mãe do Rui colocou no pacote de castanhas dele mais 1 castanha. Com quantas castanhas acabou o Rui por ficar?
Para resolveres, usa a recta numérica e o colar de contas.



$$\square \bigcirc \square = \square$$

Resposta: O Rui acabou por ficar com _____ castanhas.

- 11.** Num ramo estavam pousados 2 pássaros.
Pousaram outros 3 pássaros.
Quantos pássaros pousaram no ramo, no total?
Usa a recta numérica e o colar de contas para
descobrires a resposta.



$$\square \bigcirc \square = \square$$

Resposta: No total, pousaram no ramo _____ pássaros.