



Nome: _____

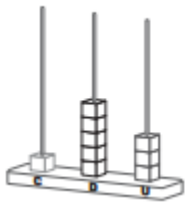
Data: ___/___/___

1. Completa conforme o exemplo:



C	D	U
	8	4

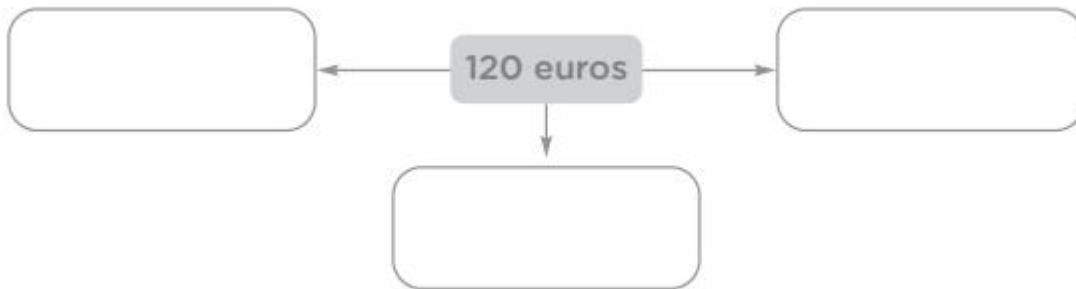
oito dezenas e quatro unidades
ou
oitenta e quatro unidades



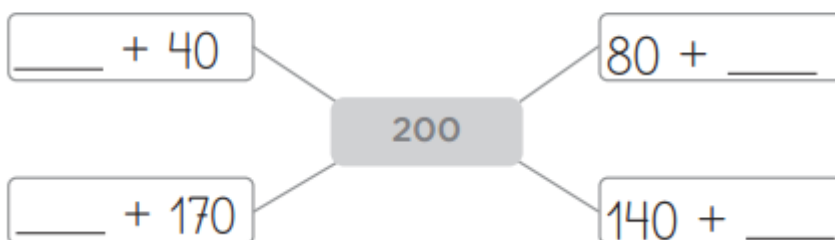
C	D	U

ou

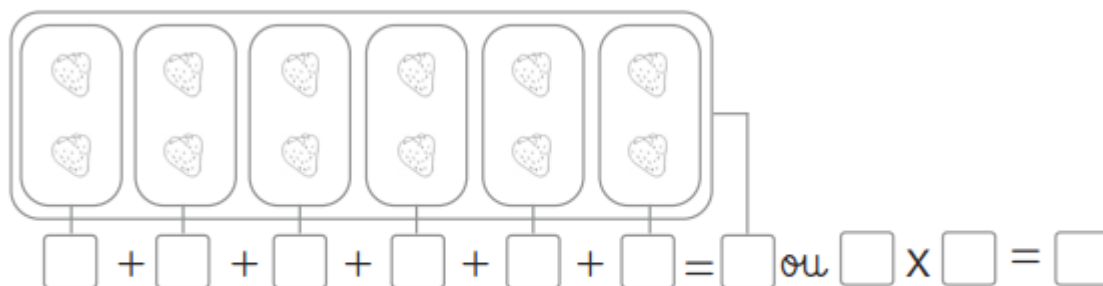
2. Encontra 3 formas diferentes de obteres a quantia indicada, usando uma ou várias das notas e moedas seguintes:



3. Preenche de forma a obteres o número 200.

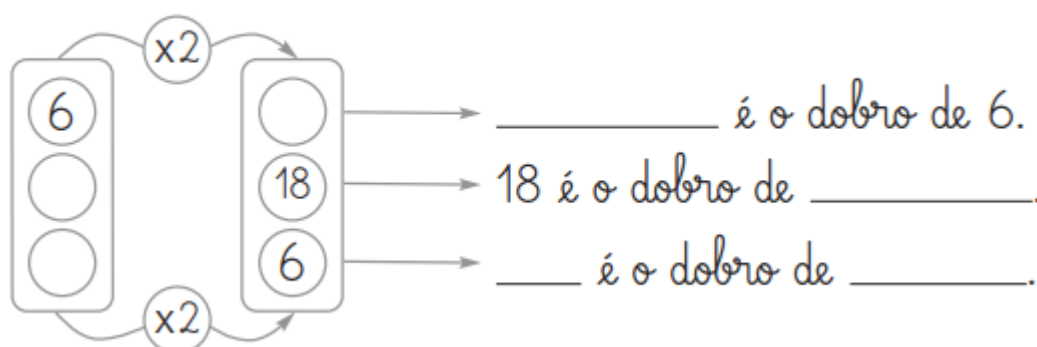


4. Completa, usando a adição de parcelas iguais e a multiplicação.

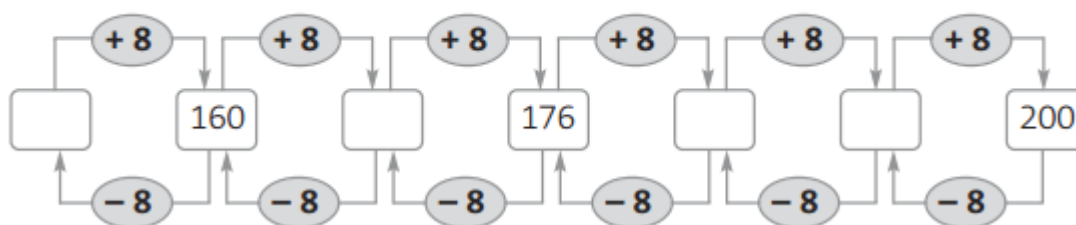


São _____ grupos, com _____ morangos cada.

5. Completa:



6. Completa a sequência:



7. Resolve as seguintes situações.

7.1. A coleção de miniaturas de cães que o Miguel está a fazer, deverá ter, no total, 80 cães. Ele já tem 67 miniaturas de cães. Cada uma custou 1 euro. Quantas miniaturas lhe faltam para a coleção ficar completa?



7.2. Nos seus anos, o Miguel recebeu 4 notas de 20 euros. Será que o dinheiro chega para acabar a coleção? Quanto lhe falta ou sobra?