

Nome: _____ Data: ____/____/____

Multiplicação (II)

1. Completa e assinala com uma cruz (X) a resposta correta.

Repara como a Viviane calculou mentalmente o resultado de uma multiplicação.

Primeiro, calculei 9×100 , que é igual a 900.
Em seguida, multipliquei 9 por 20,
que é igual a _____. Depois, calculei
 9×6 , que é igual a _____.
Somei tudo e o resultado foi 1134.

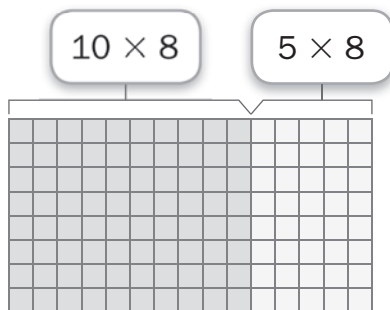


Agora, descobre a que multiplicação correspondem esses cálculos.

- a) 9×216 b) 9×126 c) 9×112 d) 9×121

2. Completa a multiplicação correspondente ao número de quadrados de cada desenho.

a)

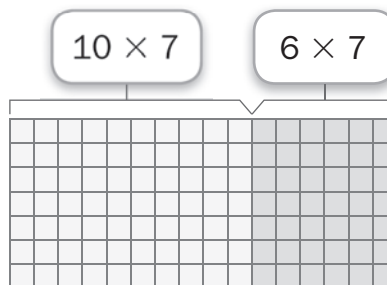


$$15 \times 8 = 10 \times 8 + \underline{\quad} \times 8$$

$$15 \times 8 = \underline{\quad} + \underline{\quad}$$

$$15 \times 8 = \underline{\quad}$$

b)



$$16 \times 7 = 10 \times 7 + \underline{\quad} \times 7$$

$$16 \times 7 = \underline{\quad} + \underline{\quad}$$

$$16 \times 7 = \underline{\quad}$$

3. Completa as operações.

a)
$$\begin{array}{r} 79 \\ \times 4 \\ \hline \end{array}$$

b)
$$\begin{array}{r} 83 \\ \times 6 \\ \hline \end{array}$$

c)
$$\begin{array}{r} 125 \\ \times 6 \\ \hline \end{array}$$

d)
$$\begin{array}{r} 387 \\ \times 2 \\ \hline \end{array}$$

4. Responde corretamente.

A Andreia afirmou que três latinhas de 355 mL têm a mesma capacidade de uma garrafa de 1 L. Concordas com a Andreia? Porquê?



R.: _____

5. Observa a figura e resolve.

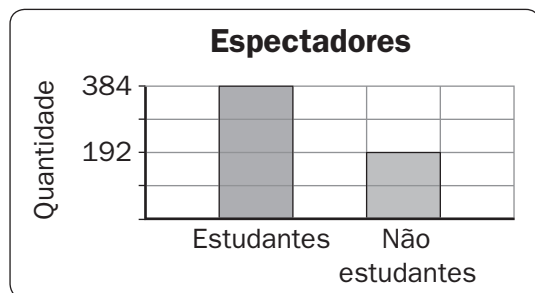
Qual é a diferença, em euros, entre as duas formas de pagamento?



R.: _____

6. Lê, observa o gráfico e calcula.

O gráfico mostra o número de pessoas que assistiram a um espetáculo de teatro nesta semana. Cada bilhete custa 4 euros para quem é estudante e 6 euros para não estudantes. Qual é a quantia obtida pelo teatro nessa semana?



R.: _____