







Nome: _____ Data: ____ / ____ / ____

Tonelada, quilograma e grama

1. Responde corretamente.

Qual é a unidade mais adequada para medir a massa em cada caso: a tonelada, o quilograma ou o grama?

<p>a) Gato: _____</p> 	<p>d) Criança de 9 anos: _____</p> 
<p>b) Fatia de bolo: _____</p> 	<p>e) Baleia: _____</p> 
<p>c) Trator: _____</p> 	<p>f) Lápis: _____</p> 

2. Responde corretamente.

A Ana Maria foi ao supermercado e comprou cinco pacotes de queijo ralado. Cada pacote contém 250 g de queijo.

- a)** Quantos gramas de queijo comprou? _____
- b)** Comprou mais de 1 kg de queijo ou menos de 1 kg de queijo? _____



3. Resolve o problema.

Um caminhão transporta 6 toneladas de alimentos. Metade dessa carga é constituída por feijão, 800 kg são de milho e o restante é de arroz.

- a)** Quantos quilogramas de feijão transporta o caminhão? _____
- b)** E quantos quilogramas de arroz? _____

