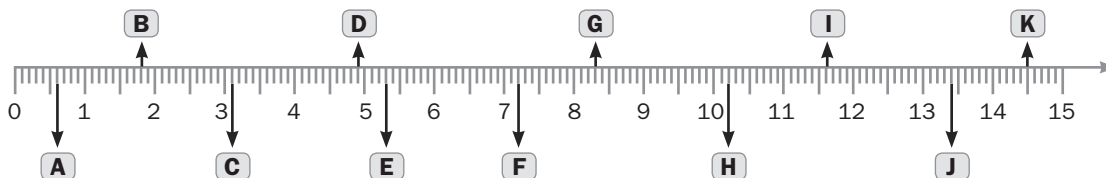


Nome: _____ Data: ____ / ____ / ____










A reta numérica e os números na forma decimal

1. Observa e responde.

Escreve o número que corresponde a cada letra na reta numérica.



2. Observa o preço dos frutos (em euros) por quilograma.

								
2,30	1,00	3,20	3,50	4,00	2,35	1,40	0,99	5,40

a) Escreve os preços dos frutos por ordem crescente.

b) De acordo com a tabela anterior, responde corretamente.

- Qual é o fruto que custa menos de 1,00 €? _____
- Qual é o fruto cujo preço tem o dígito das centésimas de euro igual a 5? _____

3. Completa a tabela.

A professora Cristina organizou uma competição com os seus alunos para ver quem conseguiria lançar o peso mais longe. Escreve com números ordinais as classificações obtidas pelos alunos.

Aluno	Distância	Classificação
Beatriz	3,17 m	
Camila	2,80 m	
Eduardo	3,12 m	
João	3,60 m	
Henrique	2,56 m	
Mateus	3,29 m	
Vitória	3,80 m	