

Nome: _____ Data: ____/____/____


RESUMO: NUMERAÇÃO

1. Qual é o número formado em cada caso?

400	300
50	110
7	28
457	438

- a) 4 centenas mais 5 dezenas mais 7 unidades: _____
- b) 3 centenas mais 11 dezenas mais 28 unidades: _____

2. O número que está representado no ábaco abaixo é



- 2445 2245
- 2425 4225

3. O valor posicional do algarismo 2 no número 32 543 é:

- 200 2000
- 2500 20 000



4. Assinala a forma correta de ler o número 857 296.

- Oitocentos e cinquenta mil duzentos e noventa e seis.
- Oitocentos e cinquenta e sete duzentos e noventa e seis.
- Oitocentos e cinquenta e sete mil duzentos e noventa e seis.
- Oitenta e cinco mil duzentos e noventa e seis.

5. A decomposição do número 1 850 000 é:

- 18 000 000 + 50 000
- 1 000 000 + 8500
- 1 850 000 + 10 000
- 1 000 000 + 800 000 + 50 000

6. Arredondando o número 2 867 450 para a unidade de milhão mais próxima, qual é o número que encontramos?

- 3 000 000 2 000 000
- 2 800 000 2 500 000





7. Assinala com uma cruz (X) a expressão errada.

- $2\,543\,000 > 2\,538\,000$
- $124\,387 < 124\,598$
- $1\,000\,000 < 1\,000\,001$
- $35\,607\,000 > 35\,706\,000$

8. Qual é a ordem de grandeza do número 1 267 320?

- Dezena de milhar
- Centena de milhar
- Unidade de milhão
- Dezena de milhão


9. Em qual dos ábacos seguintes está representado o número 600 000?



10. Assinala a sequência que está por ordem crescente.

- 100, 110, 120, ...
- 1000, 800, 600, ...
- 650, 700, 550, 600, ...
- 1000 000, 999 999, 999 998, ...

11. Observa a quantia apresentada nas imagens seguintes.



Essa quantia é mais próxima de qual? Assinala com uma cruz (X) a resposta correta.

- 300 euros 500 euros
- 400 euros 600 euros

UM PASSO MAIS



Como se lê o número 999 999 999?

R.: _____

Que número vem depois desse?
