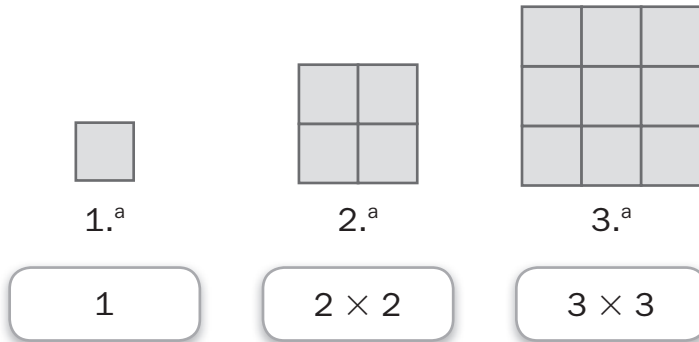


Nome: \_\_\_\_\_ Data: \_\_\_\_ / \_\_\_\_ / \_\_\_\_

### Mais multiplicação


1. Calcula quantos quadrados haverá na 12.<sup>a</sup> figura da sequência.



Na 12.<sup>a</sup> figura haverá \_\_\_\_\_ quadrinhos.

2. Resolve o problema.


Quanto pagará um grupo de 18 estudantes pelos bilhetes?



Os estudantes pagarão \_\_\_\_\_ euros pelos bilhetes.

3. Lê e completa.

O Adriano contou o número de batimentos do seu coração por minuto: foram 70 batimentos. Quantas vezes baterá o coração do Adriano em 15 minutos, se mantiver o mesmo ritmo?



O coração do Adriano baterá \_\_\_\_\_ vezes em 15 minutos.