


Nome: _____ Data: ____ / ____ / ____

Centenas, dezenas e unidades

1. Observa a figura, lê e calcula.

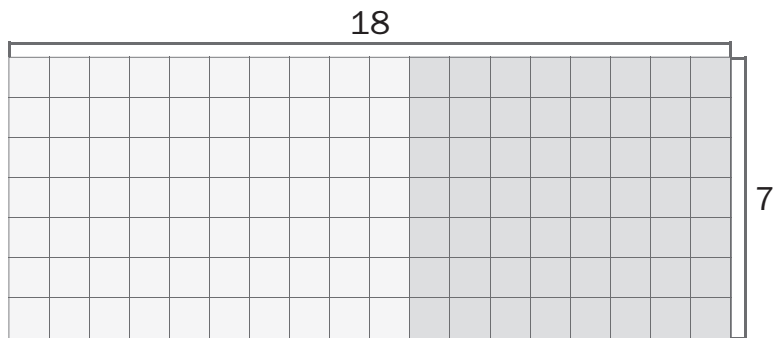
Quantas janelas há na fachada deste edifício?



Na fachada deste edifício há _____ janelas.

2. Calcula por decomposição.


Quantos quadrados há nesta figura?



Há _____ quadrados na figura.

3. Resolve o problema.

Numa escola, há 4 salas de aula com 28 alunos em cada uma e 3 salas com 25 alunos em cada uma. Quantos alunos há ao todo nessa escola?



Há ao todo _____ alunos nessa escola.