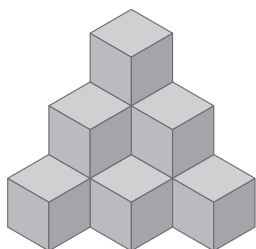


Nome: \_\_\_\_\_ Data: \_\_\_\_/\_\_\_\_/\_\_\_\_


### RESUMO: GEOMETRIA

1. Quantos cubos estão empilhados?




- a)  5      c)  9  
 b)  6      d)  10

2. Qual é a figura não plana identificada a partir das vistas abaixo?



Vista superior



Vista lateral

- a)  cone  
 b)  paralelepípedo  
 c)  cubo  
 d)  pirâmide

3. A figura de seis faces quadradas cujos comprimento, largura e altura têm a mesma medida é...

- a)  ... o cone.  
 b)  ... o paralelepípedo.  
 c)  ... o cubo.  
 d)  ... a pirâmide.

4. Qual é a figura que pode ser identificada a partir das vistas abaixo?

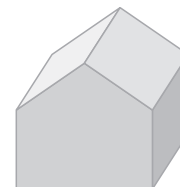


Vista superior

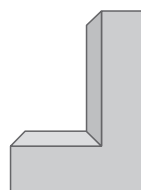


Vista lateral

- a)       c)



- b)       d)



5. O relógio do Pedro marca três horas. O menor ângulo entre os ponteiros é um ângulo...

- a)  ... que corresponde a uma volta.  
 b)  ... agudo.  
 c)  ... reto.  
 d)  ... obtuso.

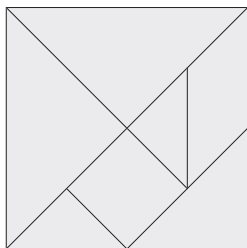


- 6.** Assinala com uma cruz (X) a afirmação incorreta.
- a)  Um quadrado tem quatro ângulos retos.
- b)  Um ângulo agudo tem uma abertura menor do que a abertura do ângulo reto.
- c)  Um ângulo obtuso tem uma abertura menor do que a abertura do ângulo reto.
- d)  Um retângulo tem quatro ângulos retos.

**7.** Em que alternativa todos os polígonos são quadriláteros?





- a)  Triângulo, pentágono.
- b)  Retângulo, hexágono.
- c)  Quadrado, triângulo.
- d)  Retângulo, quadrado.

**8.** O tangram é um quebra-cabeças formado por sete peças. É correto afirmar que, das sete peças, temos...

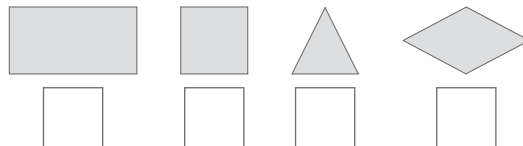


- a)  ... três triângulos e quatro quadrados.
- b)  ... quatro triângulos e três quadriláteros.
- c)  ... cinco triângulos e dois quadriláteros.
- d)  ... cinco triângulos e dois retângulos.

**9.** Um retângulo pode ser formado com dois polígonos iguais a:

- a)   c)  
- b)   d)  

**10.** Assinala a figura intrusa.




### UM PASSO MAIS



A Cláudia e o Diogo brincavam à cabra-cega. O Diogo ficava no centro de um jardim circular com os olhos vendados e de frente para a árvore, enquanto a Cláudia ficava parada noutra sítio do jardim.

Que informações darias ao Diogo para que ele girasse até ficar de frente para a Cláudia?




---



---



---



---



---