

Nome: _____ Data: ____/____/____

Relacionar três números por meio da adição e da subtração

1. Escreve duas adições e duas subtrações usando apenas os números 120, 230 e 350 juntos.

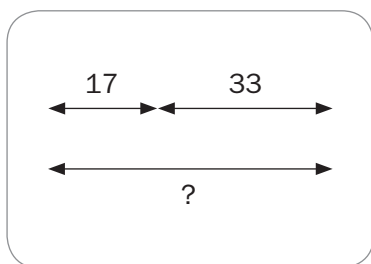
a) $230 + 120 = 350$

c) $120 + 230 = 350$

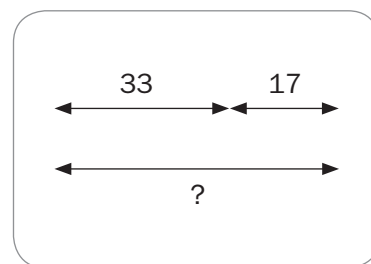
b) $350 - 120 = 230$

d) $350 - 230 = 120$

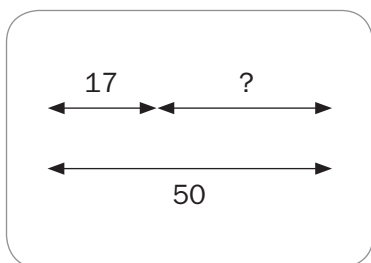
2. Cada esquema pode ser representado por uma adição ou por uma subtração. Liga corretamente cada esquema à adição ou subtração cujos resultados indicam o número desconhecido.



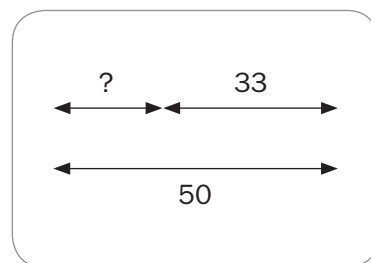
$50 - 17 = 33$



$33 + 17 = 50$



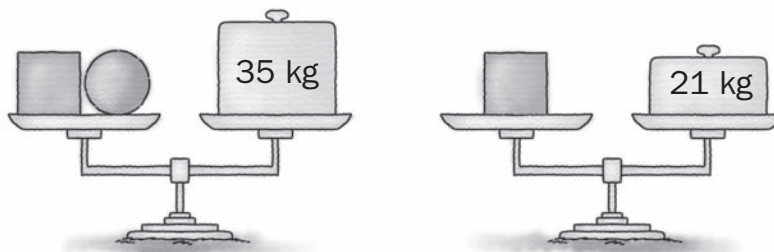
$50 - 33 = 17$



$17 + 33 = 50$

3. Observa e responde.

A balança está em equilíbrio nas duas pesagens. Qual é a massa da bola que está na balança da esquerda?



A massa da bola é de _____ kg.