

Nome: _____ Data: ____ / ____ / ____

Adições: associar parcelas

1. Calcula.

Efetua as adições, não esquecendo que deves realizar primeiro as que estão dentro dos parênteses.

a) $(55 + 15) + 60 =$

d) $(60 + 45) + 75 =$

b) $55 + (15 + 60) =$

e) $100 + (25 + 30) =$

c) $60 + (45 + 75) =$

f) $(100 + 25) + 30 =$


2. Resolve.

O Rogério gastou 40 euros com a compra de produtos de limpeza, 57 euros com alimentos e 23 euros na compra de livros.


Quanto gastou ele ao todo? O Rogério gastou _____ euros ao todo.



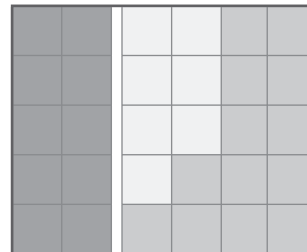
3. Liga corretamente cada figura à adição cujo resultado é a quantidade de quadradinhos.



•



•



•

•

$10 + (7 + 13)$

•

$(16 + 14) + 10$

•

$15 + (8 + 12)$