


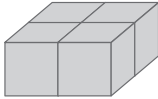
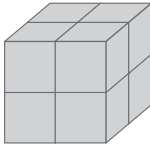
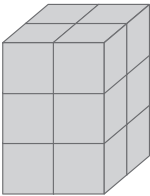


Nome: _____ Data: ____ / ____ / ____

Comparação e estimativa de volumes

1. Com cubos, constrói os sólidos representados e completa a tabela.

Representações dos sólidos	Volume dos sólidos			Área das faces em
	Unidade de volume 	Unidade de volume 	Unidade de volume 	
				
				
				

- Estima primeiro e depois prossegue a sequência dos sólidos estudados, continuando a aumentar a sua altura.
- Regista no teu caderno os volumes dos sólidos construídos e as áreas das faces.
- Partilha com os colegas as tuas estimativas e os resultados.