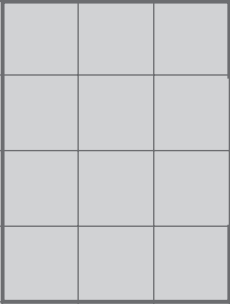
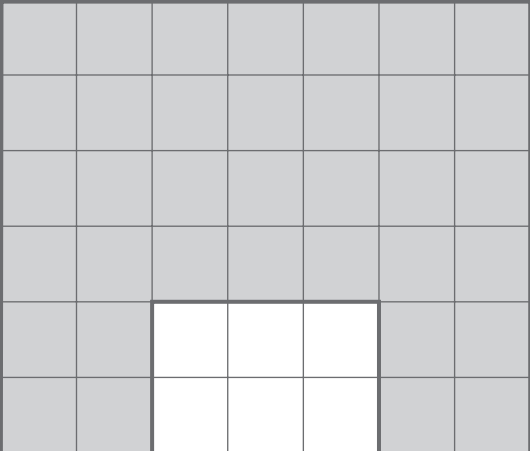
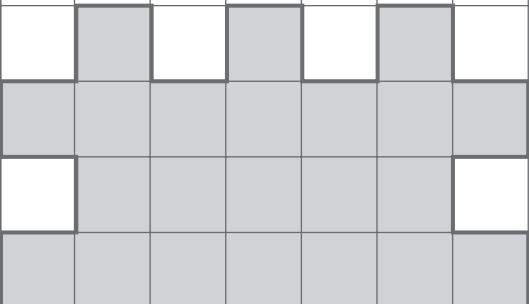
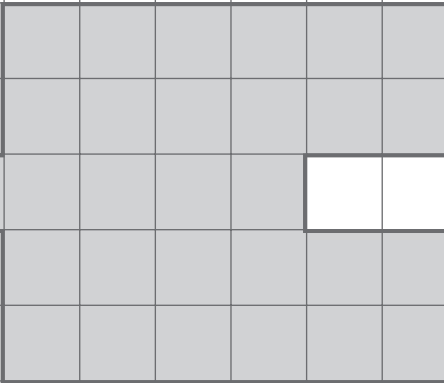


Nome: _____ Data: ____ / ____ / ____

Unidades de medida de área

1. Calcula a área e o perímetro de cada figura.

	
Área = _____ cm ²	Área = _____ cm ²
Perímetro = _____ cm	Perímetro = _____ cm
	
Área = _____ cm ²	Área = _____ cm ²
Perímetro = _____ cm	Perímetro = _____ cm

- a)** Pinta o interior das imagens com cores diferentes.
- b)** Podes afirmar que cada uma das figuras que mediste acima tem, pelo menos, 1 dm² de área? _____ Porquê? _____
- c)** E qual é a área de todas as figuras? _____ Porquê? _____