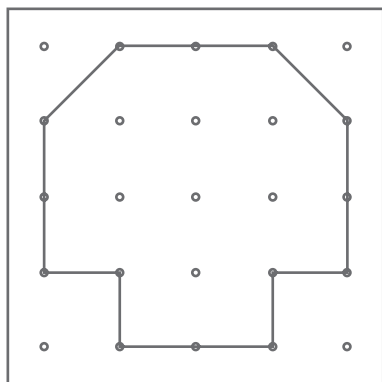


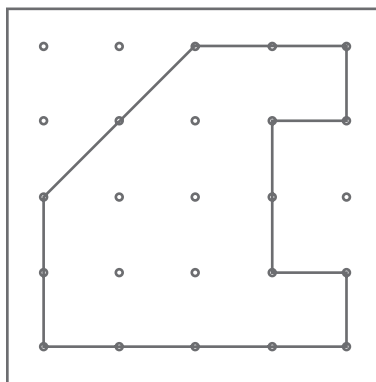
Nome: _____ Data: ____ / ____ / ____

Área

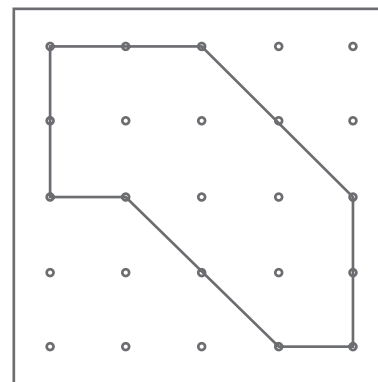
- 1.** Observa as figuras no papel pontado.
Determina a área de cada figura tomando como unidade de área o quadrado representado ao lado.



Área = _____



Área = _____




Área = _____

- 2.** Constrói três figuras no geoplano e regista-as abaixo.


- a)** Escolhe uma unidade de área e mede a área das figuras que construístes.




Unidade de área escolhida



Área = _____



Área = _____



Área = _____

- b)** Escreve as medidas por ordem crescente de área.
