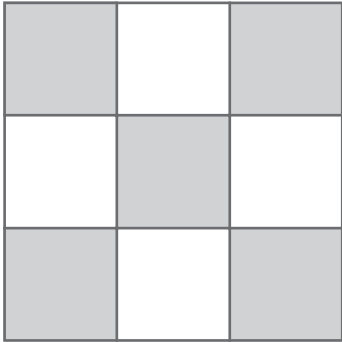


Nome: _____ Data: ____ / ____ / ____

Frações em vários contextos

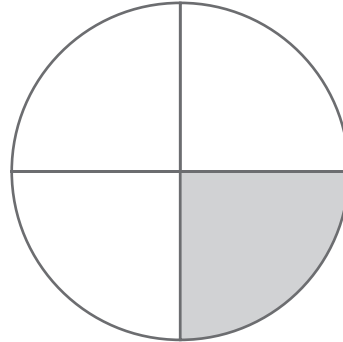
1. Escreve, para cada situação, a fração correspondente à parte pintada e à parte não pintada de cada figura.

a)




Parte pintada: ____ Parte não pintada: ____

d)



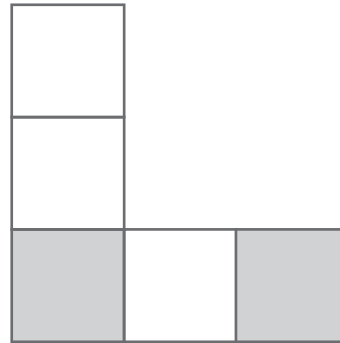
Parte pintada: ____ Parte não pintada: ____

b)



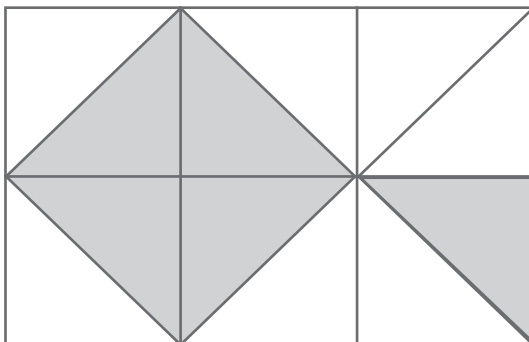
Parte pintada: ____ Parte não pintada: ____

e)



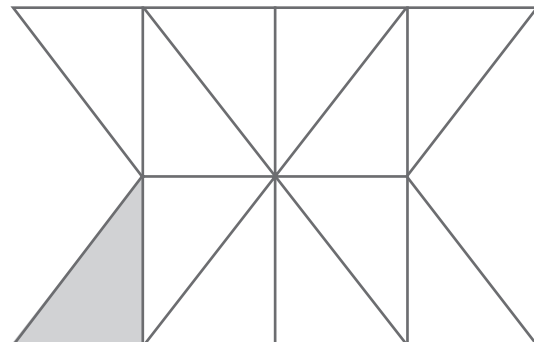
Parte pintada: ____ Parte não pintada: ____

c)



Parte pintada: ____ Parte não pintada: ____

f)



Parte pintada: ____ Parte não pintada: ____

2. Numa folha quadriculada, faz outras figuras com partes pintadas e regista o seu valor correspondente.