



Nome: _____ Data: ____ / ____ / ____

1. Continua as sequências e desenha a figura que pensas ser a vigésima da sequência.

Sequência	20. ^a figura
	
	





2. Pensa nas regras de formação das regularidades e continua-as.




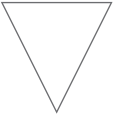
Regras de formação	Regularidades				
	25	31	37	43	49
	38	49	39	50	40
	3	15	75	375	1875
	999	966	933	900	867

3. Encontra a expressão numérica que representa o número de estrelas.

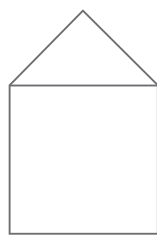
★			★	★			★	★			★
★	★			★	★			★	★		
	★	★			★	★			★	★	
		★	★			★	★			★	★

4. Continua as sequências e identifica, por meio de letras, os polígonos que formam o grupo que se repete, como no exemplo.

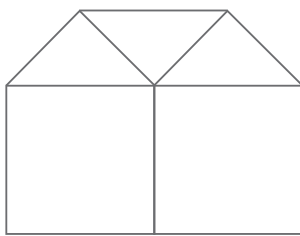
Sequência			
			
A	B	B	B

Sequência			
			

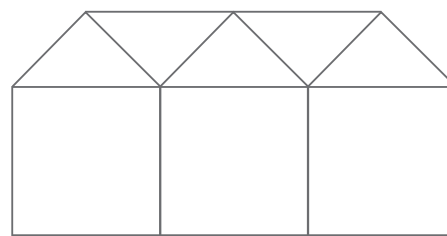
5. Observa as figuras.



A



B



C



D

- a) Descobre a figura D e completa o registo na tabela.

Figura	A	B	C	D
Triângulos				
Quadrados				

- b) Explica o processo de construção de cada figura.
