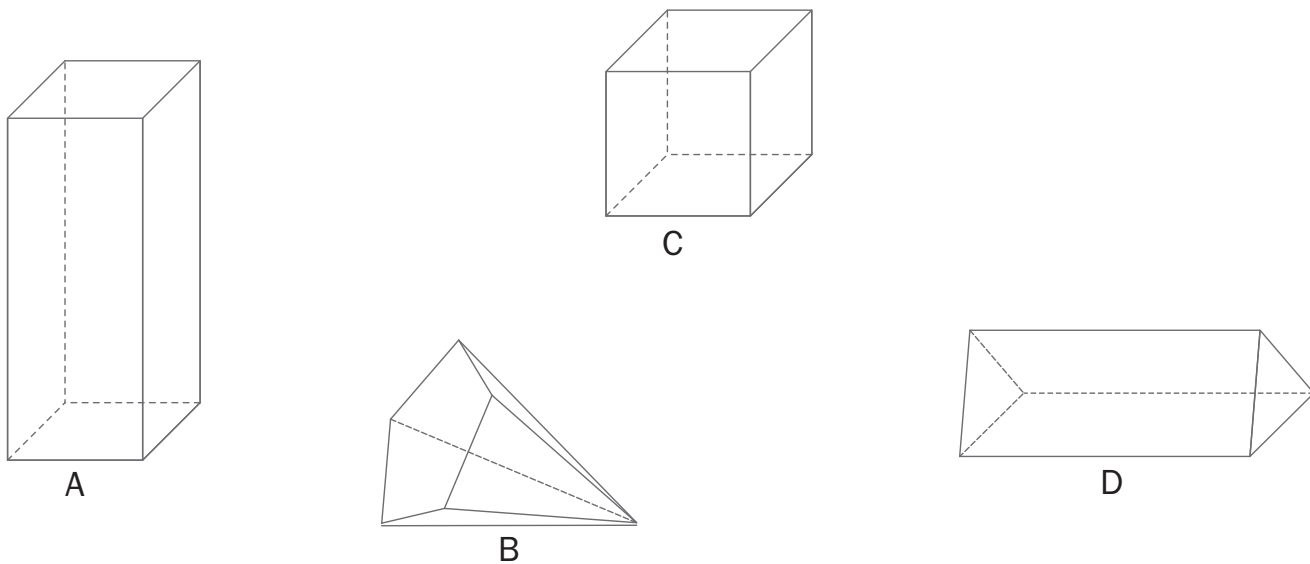


Nome: _____ Data: ____ / ____ / ____

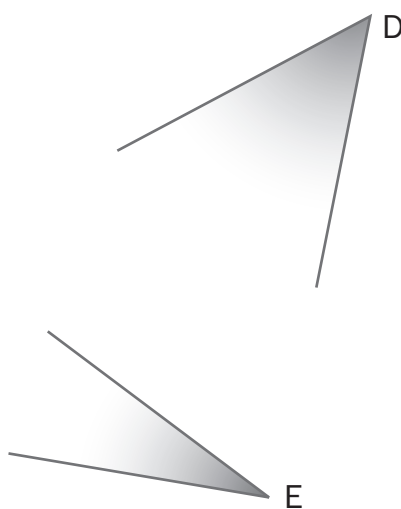
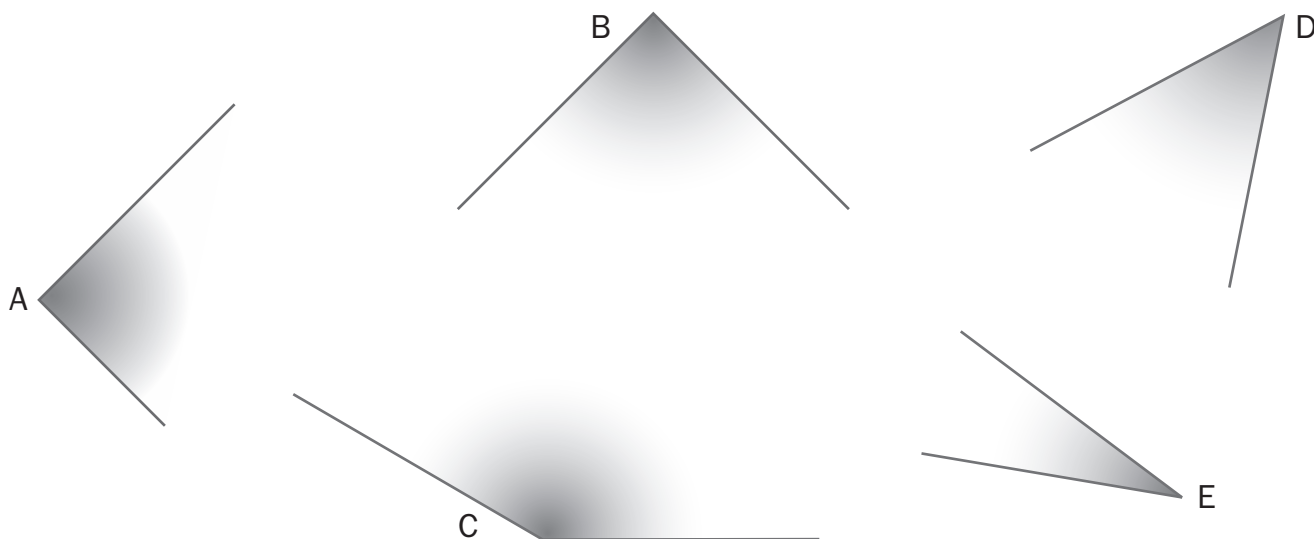
1. Identifica cada um dos sólidos representados e completa a tabela com as suas características.



Sólido	A	B	C	D
Nome				
N.º de faces				
N.º de arestas				
N.º de vértices				

2. Com a ajuda de um compasso, constrói uma circunferência com 4 cm de raio e um círculo com 6 cm de diâmetro.

3. Com o teu medidor de ângulos ou com o transferidor, classifica cada ângulo.



4. Com a ajuda de uma régua e de um esquadro, desenha:

a) três retas paralelas;

b) duas retas perpendiculares.

5. Completa os desenhos de forma que a linha a tracejado seja o eixo de simetria.

