


Nome: _____ Data: ____ / ____ / ____

Padrões de repetição e crescimento

1. Continua as sequências e identifica por meio de letras os grupos que se repetem.

a) Sequência 1



b) Sequência 2



2. Observa as figuras.

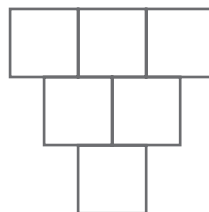
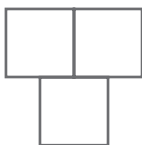


Figura A

Figura B

Figura C

a) No teu caderno, descobre as figuras seguintes da sequência anterior e completa o registo na tabela que se segue.

Figura	A	B	C				
Quadrados	1	3					