


Nome: \_\_\_\_\_ Data: \_\_\_\_ / \_\_\_\_ / \_\_\_\_

### Estimar e calcular com números na representação decimal

1. A Sofia vai ao minimercado comprar três embalagens de néctar de manga. Ajuda-a a escolher as guloseimas que pode trazer.

Sofia, levas 5 € e podes trazer o que quiseres com o que sobra.



Boa, vou trazer chupas e pastilhas.

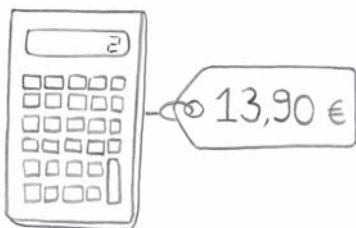
Néctares  
1 L  
1,15 €

Chupas  
0,35 € cada  
  
Pastilhas  
0,05 € cada

- Partilha com os teus colegas a forma como pensaste. Há outras respostas possíveis? Porquê?
- 

2. Em cada situação, observa o preço de cada artigo, calcula o troco e desenha o dinheiro correspondente.

**a)**




Paguei com



Recebi de troco

**b)**

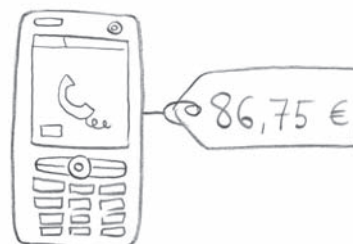


Paguei com



Recebi de troco

**c)**



Paguei com



Recebi de troco