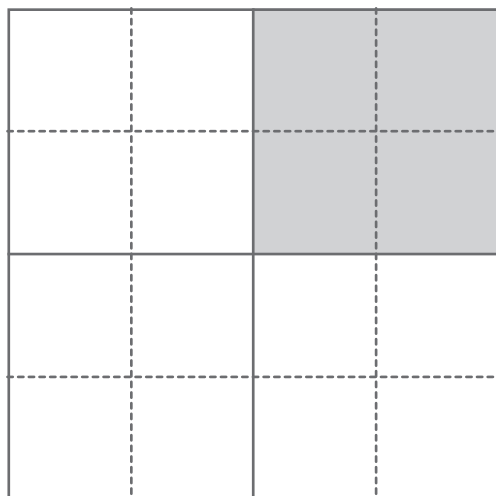


Nome: _____ Data: ____ / ____ / ____

Frações em vários contextos

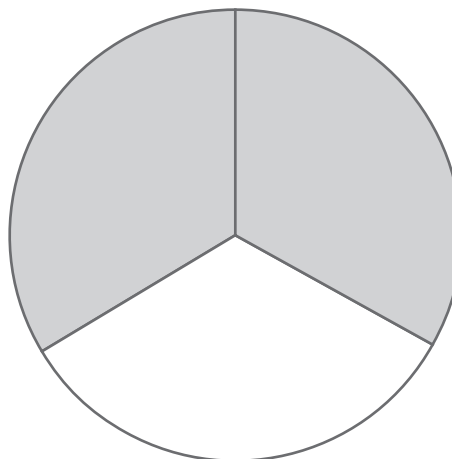
1. Escreve para cada situação duas frações, como no exemplo dado.

a)



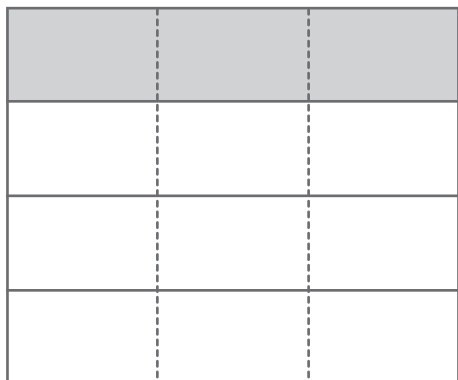
Parte pintada: $\frac{1}{4} \rightarrow \frac{4}{16}$

c)



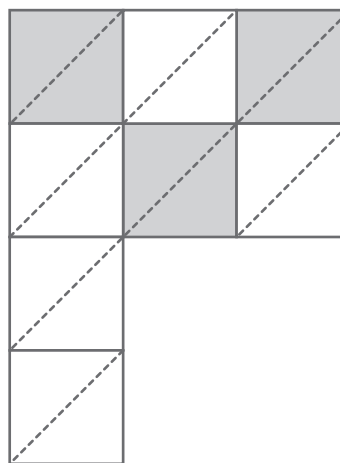
Parte pintada: $\frac{2}{3} \rightarrow \frac{4}{6}$

b)



Parte pintada: — → —

d)



Parte pintada: — → —

2. O Carlos trouxe para a escola dois chocolates e dividiu-os pelos seus cinco amigos. Faz o desenho da situação e escreve a quantidade que coube a cada um.