


Nome: _____ Data: ____ / ____ / ____

1. O Ricardo juntou dinheiro para comprar uma coleção de DVD da sua série preferida de televisão. No mês de outubro, o Ricardo não tinha dinheiro nenhum. Em novembro, juntou uma certa quantia e gastou apenas 30,00 €. Em dezembro, depois de receber 20,00 € do seu avô, pôde comprar os DVD por 149,50 € e ainda lhe sobraram 2,50 €. Qual foi a quantia que o Ricardo juntou em novembro?



Resolução

Este problema pode ser resolvido «do fim para o princípio», ou seja, partindo do final da história, que, neste caso, aconteceu em dezembro.

Tinha em dezembro

recebeu do seu avô

comprou

e recebeu de troco

?



Para saber quanto tinha o Ricardo em dezembro antes de receber 20,00 €, basta somar o valor dos DVD com o troco de 2,50 € e desse resultado tirar 20,00 €.

A quantia que o Ricardo juntou em novembro pode ser descoberta de forma semelhante.

Faz o cálculo e responde à pergunta do problema.

Juntou ? em novembro

Gastou _____


Ficou com _____

_____ € + _____ € = _____ €


O Ricardo juntou _____ em novembro.

2. Resolve o problema.

1.º O Sílvio foi à padaria e comprou 10 pães por 2,30 €.



2.º Depois, foi a casa da avó Diva e esta deu-lhe 5,00 €.



3.º Quando voltou para casa, passou pelo quiosque de jornais e comprou uma revista por 2,70 € e alguns pacotes de cromos por 4,00 €.



4.º Ao chegar a casa, o Sílvio percebeu que lhe tinha sobrado apenas uma moeda de 0,50 €.



- Que quantia tinha o Sílvio quando foi à padaria?
Antes de escreveres a resposta, comprova-a voltando ao início da situação.

R.: _____