







Nome: _____



Data: ___/___/___

1. Observa e completa as frases.



 valem tanto como _____ moedas de .

 valem tanto como _____ moedas de .

 valem tanto como _____ moedas de .

2. Circunda o menor número de moedas necessárias para comprar cada objecto.



20 cêntimos



18 cêntimos



15 cêntimos



3. Numera as notas de 1 a 3 começando pela de menor valor.



4. Observa e completa.



Duas notas de 5 euros são _____ euros.



Uma nota de 10 euros vale tanto como _____ notas de _____ euros. Duas notas de 10 euros equivalem a _____ euros.



Uma nota de 20 euros vale tanto como _____ notas de _____ euros e tanto como _____ notas de 5 euros.

5. Completa.



15 cêntimos

O lápis custa cêntimos.

A Carolina pagou com cêntimos.

Vai receber de troco cêntimos.

Então - =