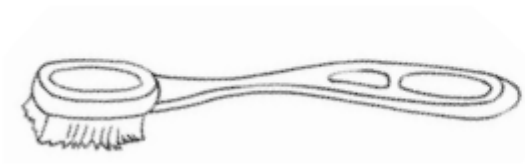




Nome: _____

Data: ___/___/___

1. Pinta a mais comprida.



2. Desenha 1 flauta mais curta do que esta.



3. Liga com um traço os lápis que têm o mesmo tamanho.



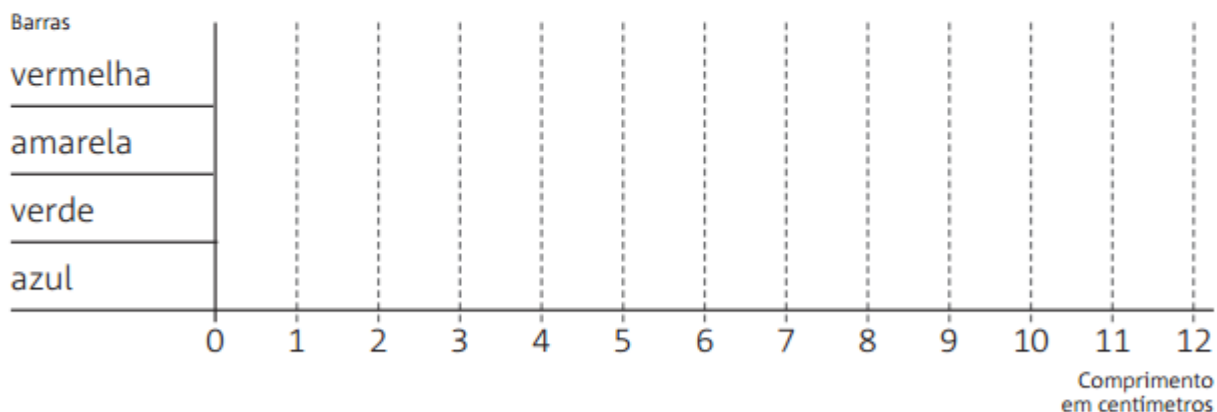

4. Observa os objectos e através da simbologia >, < ou =, completa a informação.



A B C D E

A = B B < C C < A D < E

5. Com a tua régua mede as barras coloridas.
Regista no gráfico o comprimento das barras.



- Qual é a barra mais comprida? _____
- E qual é a mais curta? _____
- Quantos centímetros faltam à barra amarela para ter o mesmo comprimento da barra azul?

Resposta: _____

- Se colocarmos a barra vermelha a seguir à barra verde, qual será o comprimento das duas juntas?

Resposta: _____