



Nome: _____

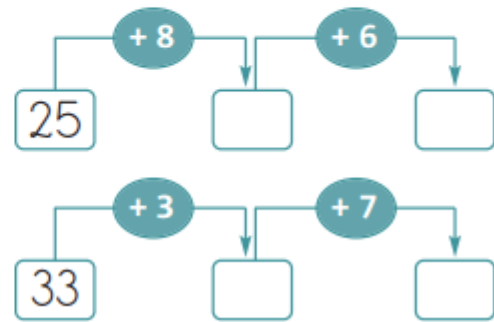
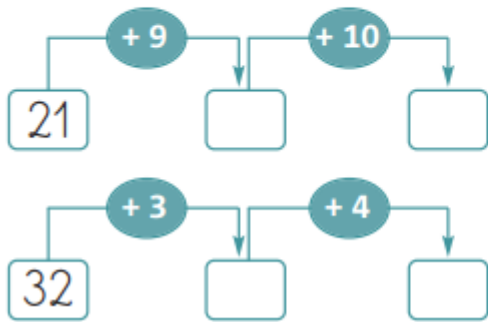
Data: ___/___/___

1. Completa o quadro.

32	30 + ___	3 dezenas e 2 unidades	trinta e dois
35	___ + 5	___ dezenas e ___ unidades	
39	___ + 9	___ dezenas e ___ unidades	
42	40 + ___	___ dezenas e ___ unidades	
44	___ + 4	___ dezenas e ___ unidades	

2. Efectua as operações.

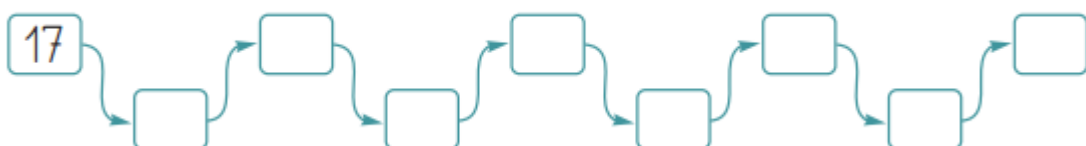
$35 + 3 = \square$ $38 = 8 + \square$ $36 - \square = 3$ $\square - 2 = 34$
 $34 + 5 = \square$ $37 = 7 + \square$ $38 - \square = 8$ $\square - 6 = 32$



3. Conta de 2 em 2.



4. Conta de 3 em 3.



5. Uma pereira tinha 44 peras.
4 peras caíram ao chão e a Anita colheu 10 peras.
Quantas peras deixaram de estar na pereira?



Resposta: _____

- Com quantas peras ficou a pereira?

Resposta: _____

6. A um bando de 28 pássaros, juntaram-se mais 12.
Com quantos pássaros ficou o bando?



Resposta: _____

- Passado algum tempo 15 pássaros levantaram voo.
Quantos pássaros continuaram no bando?

Resposta: _____