



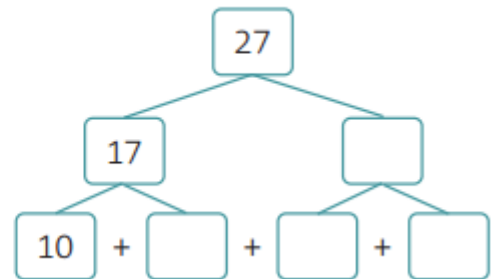
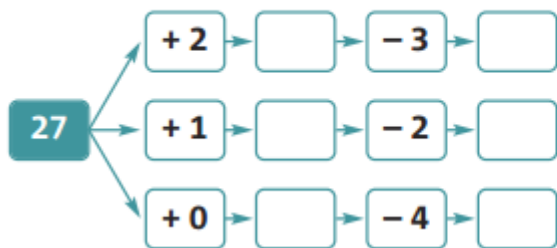
Nome: _____

Data: ___/___/___

1. Observa e completa o quadro.

		D	U	
26				vinte e seis
	$20 + 8$			
		2	3	
25				
				duas dezenas e nove unidades

2. Completa.



3. Coloca os sinais >, < ou = entre os números.

22 22 23

23 22 21

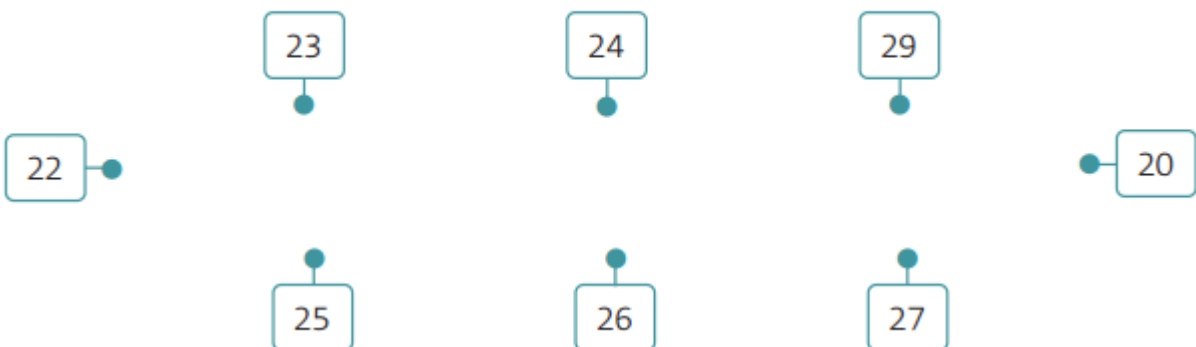
21 22 23

22 23 23

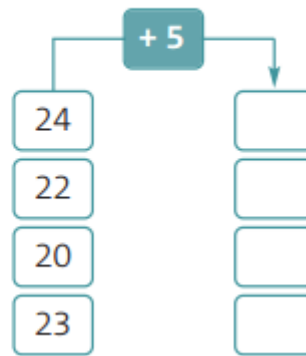
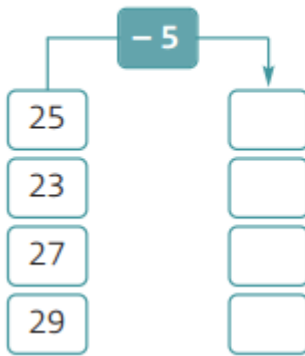
21 23 22

23 21 21


4. Liga os números por ordem crescente.




5. Completa.




6. Três amigos fizeram um jogo de setas. Observa os alvos de cada um.



Rosa



João



Ana

- Quantos pontos fez a Ana?

Resposta: _____

- Quantos pontos fez o João?

Resposta: _____

- Quantos pontos fez a Rosa?

Resposta: _____

- Qual dos três foi o vencedor?

Resposta: _____

- Qual foi a diferença de pontos entre a Rosa e a Ana?

Resposta: _____