

FICHA DE AVALIAÇÃO TRIMESTRAL — 1.º PERÍODO

NOME: _____ DATA: _____

1 Pinta os retângulos que têm números pares.

21

64

450

45

206

2 Completa a tabela.

| C | D | U | Decomposição | Leitura do número |
|---|---|---|--------------|-------------------------------|
| | | | 200 + 30 + 5 | |
| 3 | 2 | 9 | | |
| | | | | Quatrocentos e oitenta e dois |

3 Descobre as regularidades e completa as sequências.

| | | | | | | | | | | | |
|-----|-----|-----|--|--|--|--|-----|--|--|--|--|
| 300 | 305 | 310 | | | | | 335 | | | | |
|-----|-----|-----|--|--|--|--|-----|--|--|--|--|

| | | | | | | | | | | | |
|-----|-----|-----|--|-----|--|--|--|--|--|--|--|
| 499 | 496 | 493 | | 487 | | | | | | | |
|-----|-----|-----|--|-----|--|--|--|--|--|--|--|

4 Escreve o número anterior e o seguinte.

< 299 < < 450 < < 278 <

< 200 < < 331 < < 301 <

5 Completa usando os sinais >, < ou =.

364 346 409 400 + 90 291 2C + 1D + 9U

202 220 240 190 + 50 400 200 + 199

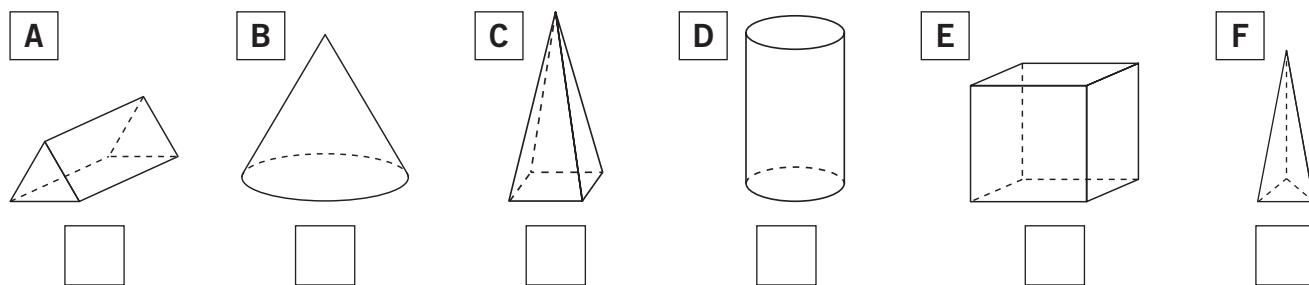
6 O Dinis está a ler um livro com 96 páginas e já vai na 54. Quantas páginas faltam para acabar de ler o livro?

R.: _____

7 A biblioteca recebeu 64 alunos da parte da manhã e 55 alunos da parte da tarde. Quantos alunos estiveram na biblioteca?

R.: _____

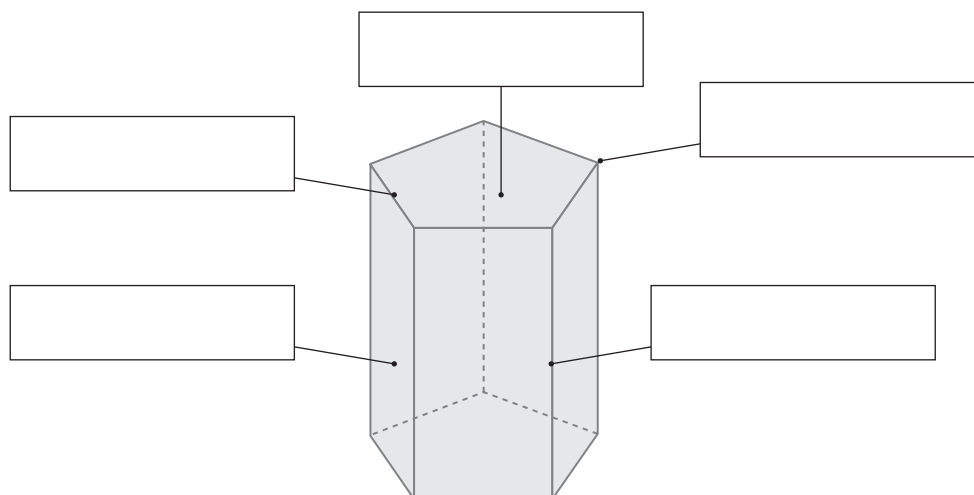
8 Observa os sólidos geométricos.



a) Assinala os sólidos que são poliedros.

b) Pinta, de amarelo, os prismas e, de azul, as pirâmides.

9 Preenche corretamente cada etiqueta com um dos nomes: **face**, **aresta** ou **vértice**.



- 10 A Matilde fez um inquérito para saber quem comia fruta ao lanche. Observa o diagrama onde a Matilde registou os dados recolhidos.

| | Raparigas | Rapazes |
|----------------|-----------|---------|
| Come fruta | 15 | 13 |
| Não come fruta | 7 | 5 |

- a) Quantas crianças comem fruta ao lanche?

R.: _____




- b) Quantos alunos responderam ao inquérito?

R.: _____

- c) Responderam ao inquérito mais rapazes ou mais raparigas? Quantos a mais?

R.: _____

- 11 Escreve as horas que os relógios marcam.



12 Completa de modo a obteres afirmações verdadeiras.

Um dia tem _____ horas. Uma hora tem _____ minutos.

Meia hora são _____ minutos. Um quarto de hora tem _____ minutos.

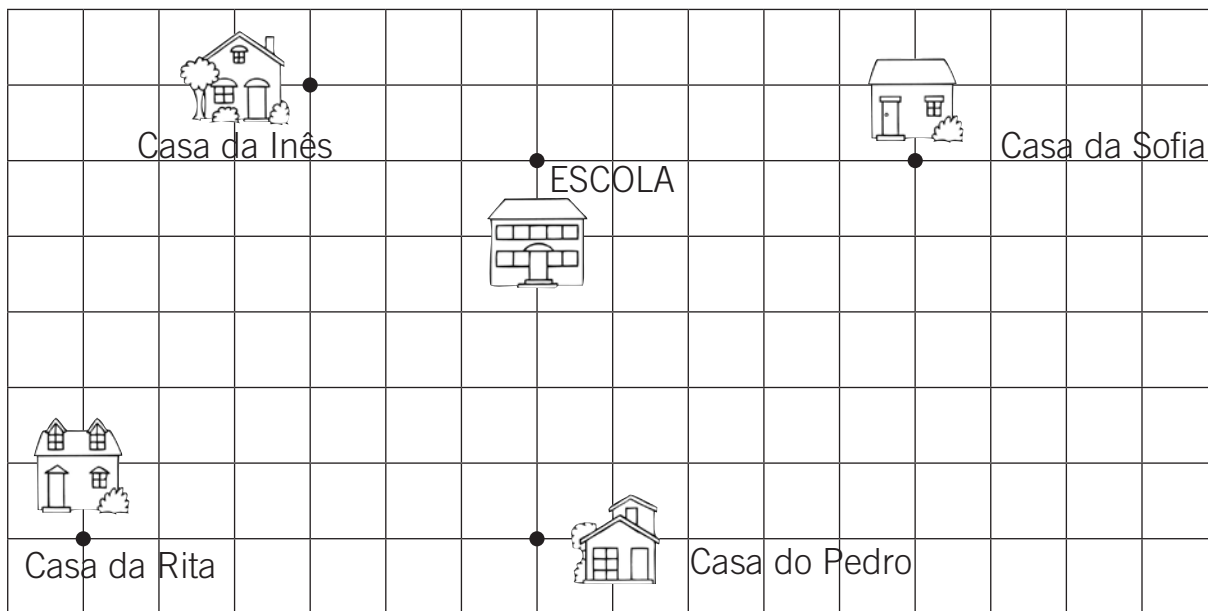
13 Assinala o dia imediatamente anterior à segunda-feira.

Sábado.

Terça-feira.

Domingo.

14 No quadriculado, estão assinaladas as casas de alguns meninos e a escola.



a) Qual é a criança que vive mais longe da escola? _____

E mais perto? _____

b) Quais são as duas crianças que vivem equidistantes da escola?

c) Marca no quadriculado um ponto A que esteja à mesma distância da casa do Pedro e da Sofia.