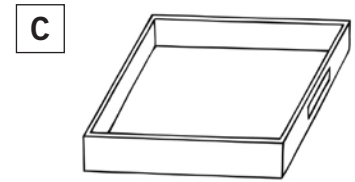



NOME: _____ DATA: _____

VOLUME

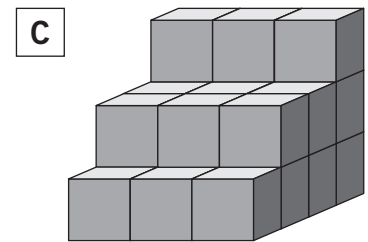
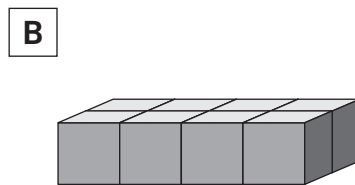
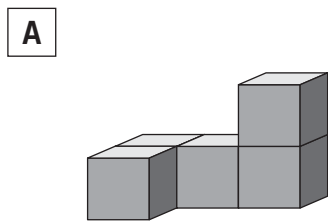
1 A Lara tem três caixas com peças de encaixe de tamanhos diferentes.



a) Qual é a caixa, entre A e B, que tem mais peças? Explica como pensaste.

b) A Lara encheu a caixa C com outro tipo de peças ainda mais pequenas do que as da caixa A. Qual é a caixa que tem maior quantidade de peças?

2 Observa as construções da Mara feitas com pequenos cubos.



a) Quantos cubos tem cada sólido?

A: cubos

B: cubos

C: cubos

b) Qual dos sólidos tem menor volume? _____

c) Das construções seguintes, identifica aquela que tem o mesmo volume que a construção B. _____

