

NOME: \_\_\_\_\_ DATA: \_\_\_\_\_




## QUÁDRUPLO E QUARTA PARTE, QUÍNTUPLO E QUINTA PARTE

- 1 O senhor José apanhou maçãs e peras no seu pomar. Ao todo apanhou 20 frutos, sendo a quarta parte maçãs.

Desenha as maçãs que o senhor José apanhou e completa a frase.

A quarta parte de 20 é \_\_\_\_\_

- 2 Desenha o número de elementos pedido.

	Quádruplo	Quíntuplo
		
		
		

- 3 Circunda, em cada caso, o número de elementos pedido.

Quarta parte	Quinta parte	Quarta parte	Quinta parte
