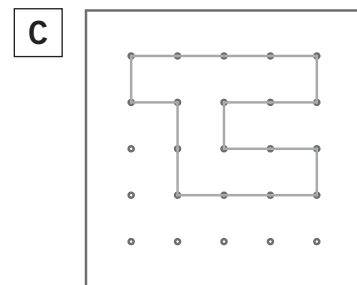
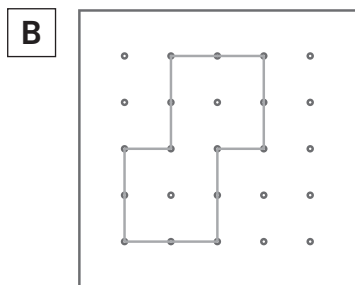
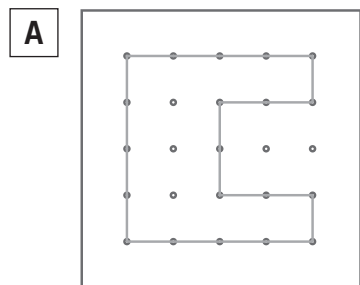


NOME: \_\_\_\_\_ DATA: \_\_\_\_\_

## PERÍMETRO

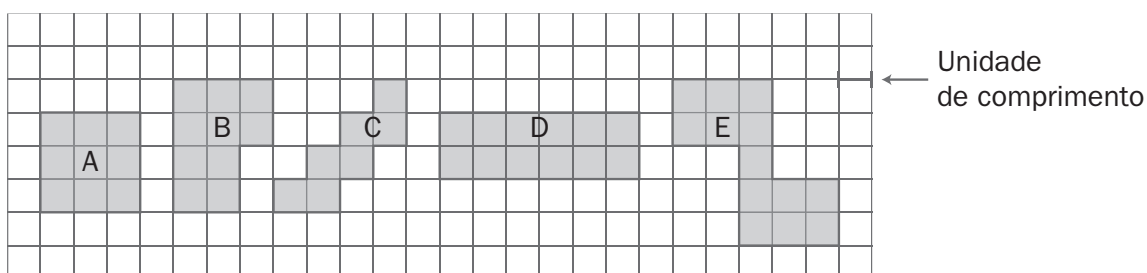
1 Observa as figuras representadas no papel pontado.



a) Usando como unidade de medida a menor distância entre dois pontos, regista o perímetro das figuras.

	Figura A	Figura B	Figura C
Perímetro			

2 Observa as figuras na quadrícula.



a) Calcula o perímetro de cada figura, usando o lado da quadrícula como unidade de comprimento.

Figura	A	B	C	D	E
Perímetro					

b) Ordena as figuras por ordem decrescente de perímetro.