

NOME: _____ DATA: _____

COMPRIMENTO

1 Para cada situação, faz o seguinte:

- 1.º Escolhe e regista qual é a unidade de comprimento mais adequada.
- 2.º Faz uma estimativa do comprimento pedido.
- 3.º Mede o comprimento com a unidade de comprimento escolhida e regista o seu valor.

a) O comprimento do livro de Matemática.



Vou medir com _____

Estimativa do comprimento: _____

Medida do comprimento: _____

d) O comprimento do lado maior da sala de aula.




Vou medir com _____

Estimativa do comprimento: _____

Medida do comprimento: _____

b) O espaço entre duas janelas próximas.




Vou medir com _____

Estimativa do espaço: _____

Medida do espaço: _____

e) A altura de um *dossier*.



Vou medir com _____

Estimativa da altura: _____

Medida da altura: _____

c) O comprimento do teu lápis.




Vou medir com _____

Estimativa do comprimento: _____

Medida do comprimento: _____

f) A altura do rodapé da sala de aula.



Vou medir com _____

Estimativa da altura: _____

Medida da altura: _____

2 Compara os teus registos efetuados no exercício anterior com os dos teus colegas. São os mesmos ou diferem? Se diferem, indica em que aspeto e porquê.