

NOME: _____ DATA: _____

FRAÇÕES

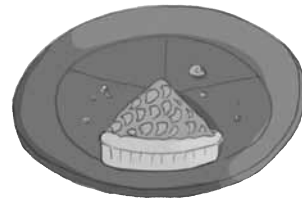
1 Na festa de aniversário da Catarina, comeram-se algumas fatias de bolos. Indica, sob a forma de fração, a parte que se comeu em cada bolo.

a)



Comeu-se do bolo de morango.

b)



Comeu-se do bolo de maçã.

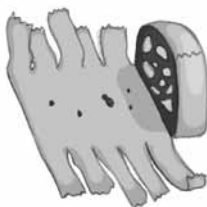
c)



Comeu-se do bolo de chocolate.

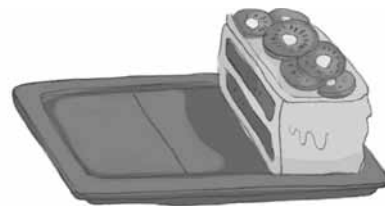
2 Descobre que parte sobrou de salame e dos bolos de iogurte, quivi e ananás.

a)



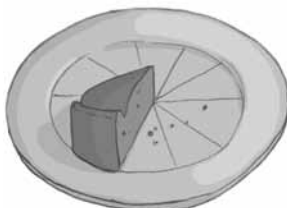
Sobrou do salame.

c)



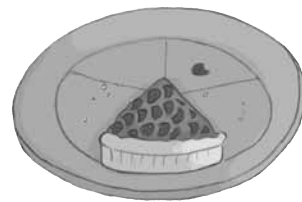
Sobrou do bolo de quivi.

b)



Sobrou do bolo de iogurte.

d)



Sobrou do bolo de ananás.