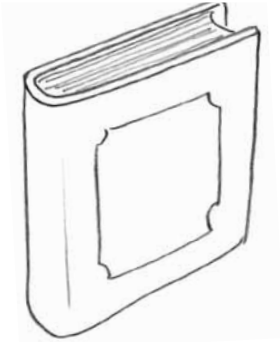


NOME: \_\_\_\_\_ DATA: \_\_\_\_\_

## UNIDADES MONETÁRIAS


**1** Para cada produto, estima o seu preço e circunda o valor que mais se aproxima da tua estimativa.

a)



1 euro      10 euros      100 euros

d)



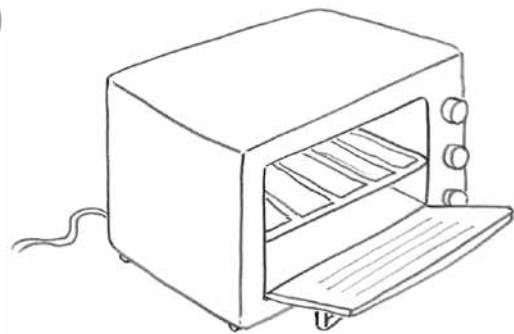
1 euro      10 euros      100 euros

b)



1 euro      10 euros      100 euros

e)



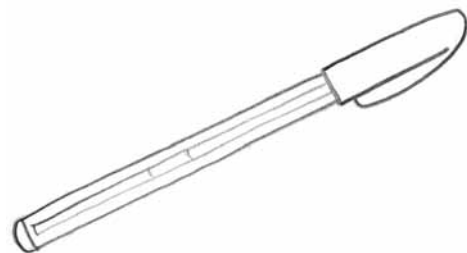
1 euro      10 euros      100 euros

c)



1 euro      10 euros      100 euros

f)



1 euro      10 euros      100 euros

**2** Verifica o custo de cada pacote de leite que bebes na escola e, com os teus colegas, faz uma estimativa do custo do leite escolar que cada um bebe durante uma semana.