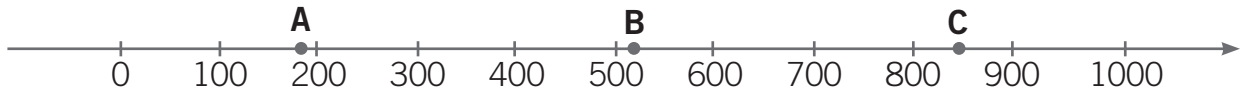


NOME: _____ DATA: _____

CONTINUANDO A DESCOBRIR OS NÚMEROS

1 Observa a reta numérica.

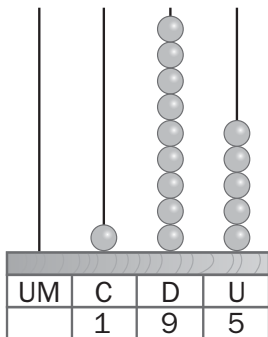


Faz uma estimativa dos números assinalados na reta numérica e completa por extenso, como no exemplo dado.

a) Exemplo:

195

$$195 = 100 + 90 + 5$$

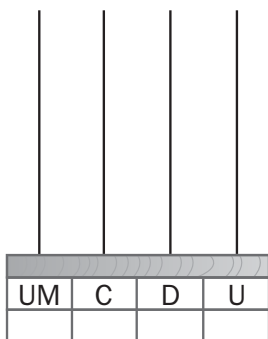


Podemos ler:

- cento e noventa e cinco unidades.
- uma centena, nove dezenas e cinco unidades.

b)

$$\boxed{} = \boxed{} + \boxed{} + \boxed{}$$

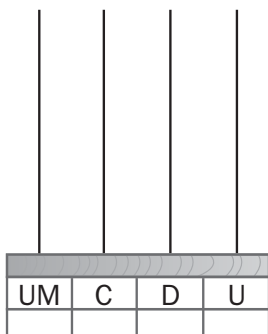


Podemos ler:

- _____
- _____

c)

$$\boxed{} = \boxed{} + \boxed{} + \boxed{}$$



Podemos ler:

- _____
- _____