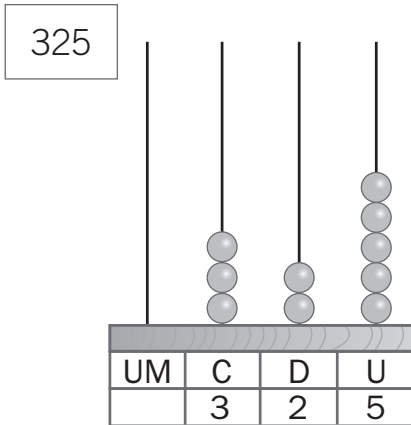


NOME: _____ DATA: _____

CONTINUANDO A DESCOBRIR NÚMEROS

1 Completa, como no exemplo.

a) Exemplo:



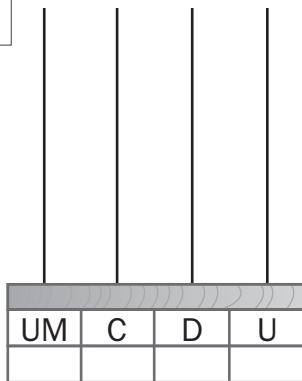
$$325 = 300 + 20 + 5$$

Podemos ler:

- trezentas e vinte e cinco unidades.
- três centenas, duas dezenas e cinco unidades.

b)

460



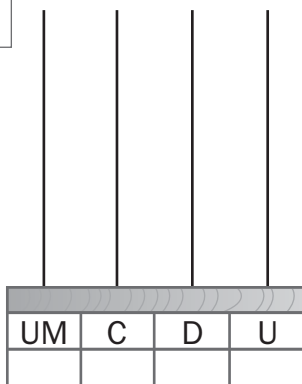
$$460 = 400 + \boxed{} + \boxed{}$$

Podemos ler:

- quatrocentas _____.
- quatro centenas e _____.

c)

758



$$\boxed{} = \boxed{} + \boxed{} + \boxed{}$$

Podemos ler:

- _____
- _____
- _____
- _____

2 Assinala, na reta numérica, os números com que trabalhaste no exercício anterior.

