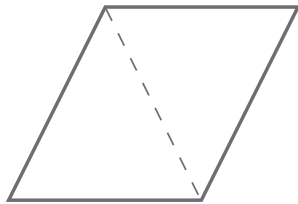


NOME: _____ DATA: _____

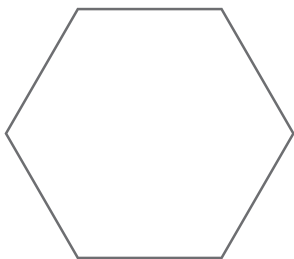
COMPOSIÇÃO E DECOMPOSIÇÃO DE FIGURAS

1 Nas figuras seguintes, traça linhas de maneira a descobrires o que te é pedido, como no exemplo.

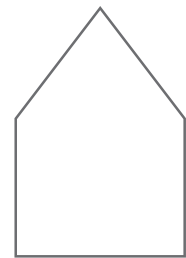
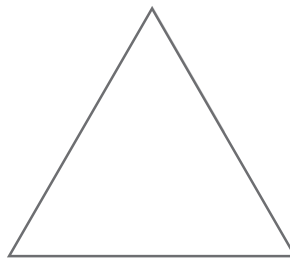
a) Exemplo:
Dois triângulos.



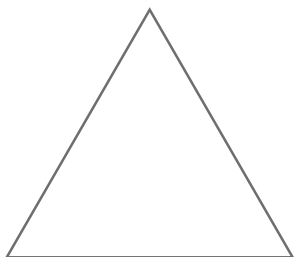
b) Dois quadriláteros.



c) Um quadrilátero e um triângulo.



d) Quatro triângulos.



2 Partilha com os teus colegas as descobertas que fizeste no exercício anterior.