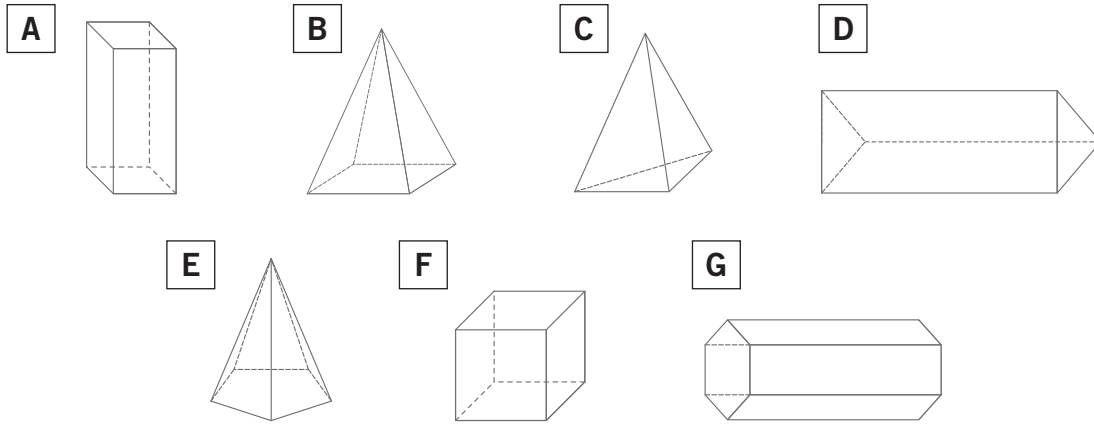


NOME: _____ DATA: _____

PRISMAS E PIRÂMIDES

1 Observa os sólidos geométricos e repara na forma das suas faces.



a) Utilizando as respetivas letras, indica os sólidos cujas faces laterais são:

- triangulares; _____
- retangulares; _____

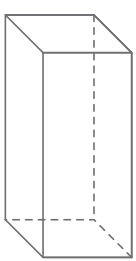
b) Liga corretamente.

Os prismas •	• têm faces laterais triangulares.
As pirâmides •	• têm faces laterais retangulares.

c) Pinta de amarelo as pirâmides e de azul os prismas.

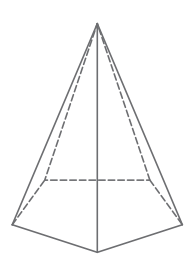
2 Completa.

a)



N.º de faces	
N.º de arestas	
N.º de vértices	

b)



N.º de faces	
N.º de arestas	
N.º de vértices	