



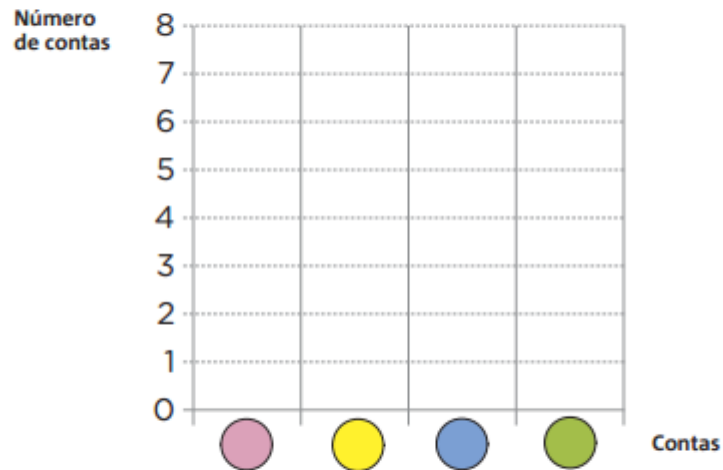
Nome: _____

Data: ___/___/___

1. Termina a pintura do colar de contas de acordo com o padrão indicado.



● Regista no gráfico a quantidade de contas usadas de acordo com as suas cores.



● Completa.

Pintei:

contas  contas  contas  contas 

● Quantas contas não são de cor azul?

Resposta: _____

2. Completa com os números **10, 12, 13, 15 e 16**.

>

=

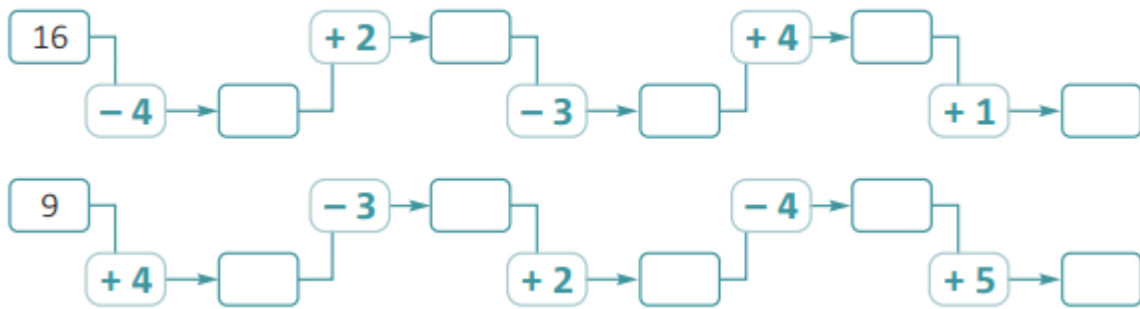
>

<

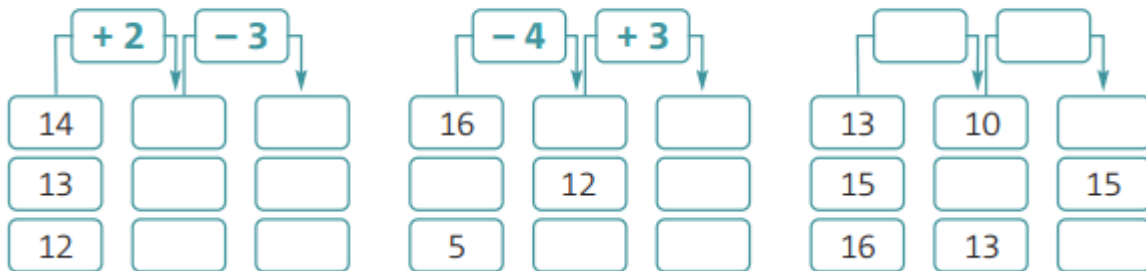
<

<

3. Efectua as operações.



4. Completa.



5. O Pedro tinha três sacos com bolinhas.
 O saco número 1 tinha 4 bolinhas azuis.
 O saco número 2 tinha 6 bolinhas verdes.
 O saco número 3 tinha 5 bolinhas amarelas.
 Qual dos sacos tem maior quantidade de bolinhas?



Resposta: _____

- Quantas bolinhas estão ao todo nos sacos número 1 e número 2?

Resposta: _____

- Quantas bolinhas tem ao todo o Pedro nos três sacos?

Resposta: _____