



Nome: \_\_\_\_\_


Data: \_\_\_/\_\_\_/\_\_\_

1. Completa com os números de 1 a 9 por ordem crescente.

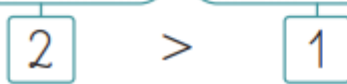
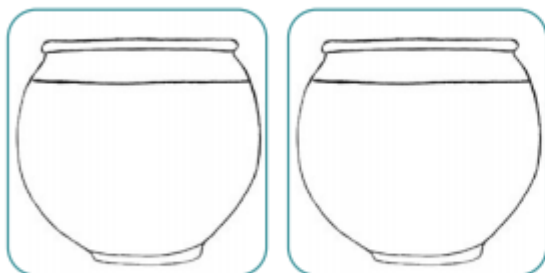


2. Conta e regista os elementos de cada grupo.

● Completa, preenchendo os  com os sinais >, < e =.



3. Desenha peixes nos aquários conforme as indicações.



4. Relaciona as expressões numéricas com os números, usando  $>$ ,  $<$  ou  $=$  para que sejam verdadeiras.

$3 + 2 \square 7$

$8 - 4 \square 4$


$4 + 3 \square 6$

$7 - 4 \square 2$

$7 + 2 \square 9$

$9 - 5 \square 6$

5. A Rita tinha 9 flores. Deu 4 à Sónia.  
Com quantas flores ficou?



Resposta: Ficou com  flores.

6. Eu tenho 4 lápis.  
Se eu juntar mais 3 lápis, com quantos fico?



Resposta: Fico com  lápis.