



Nome: _____

Data: ___/___/___

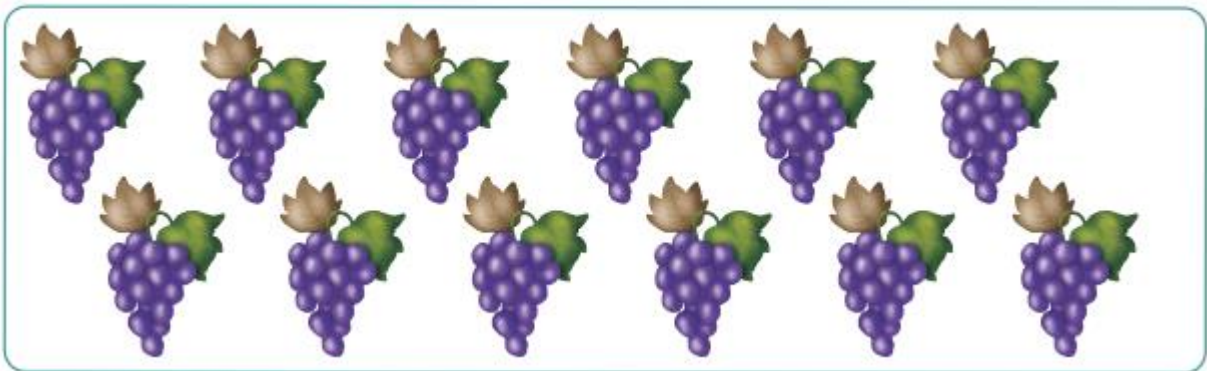
1. Cobre e completa.

8	8	8	8	8	8	8	8	8	8	8	8	8	8	8	8	8
8	8															



2. Cobre e completa.

9	9	9	9	9	9	9	9	9	9	9	9	9	9	9	9	9
9	9															

3. Forma um grupo de 8 elementos.



4. Liga com um traço cada conjunto à etiqueta correspondente.











9

6

7

8

5. Decompõe as quantidades **8** e **9**. Para isso, desenha os pontos que faltam e completa.

	—	(8)			—	(9)
	→	7 + 1			→	8 + 1
	→	6 +			→	<input type="text"/>
	→	<input type="text"/>			→	<input type="text"/>

6. Resolve.

A Carochinha tinha 9 morangos e comeu 3.
Com quantos morangos ficou?

Dados:

Morangos que tinha

Morangos que comeu



Resposta: Ficou com morangos.