

NOME: _____ DATA: _____ - _____ - _____

1 Completa com >, < e =.

$25 + 25$ 50

$25 + 75$ 100

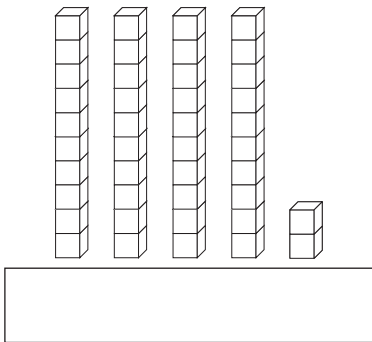
$27 + 21$ $30 + 21$

$32 + 36$ $32 + 39$

$25 + 30$ 50

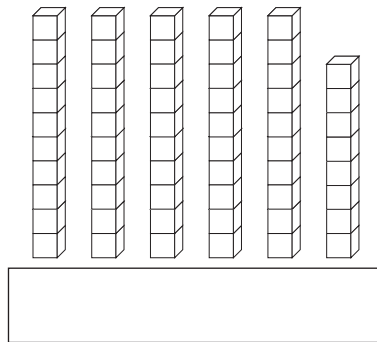
$24 + 25 + 50$ 100

2 Observa cada representação e escreve o número e a sua leitura.

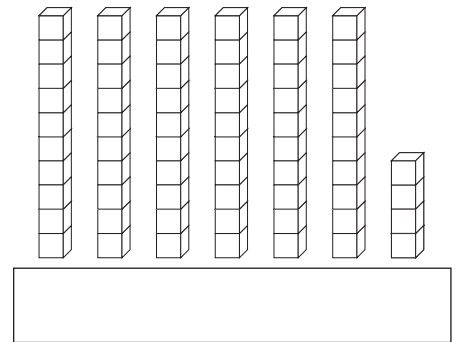


Quatro dezenas

e _____ unidades



e _____ unidades



e _____ unidades

3 Observa o gráfico, onde se registou a quantidade de caixas de fruta que a Vera vendeu na sua loja na última semana.

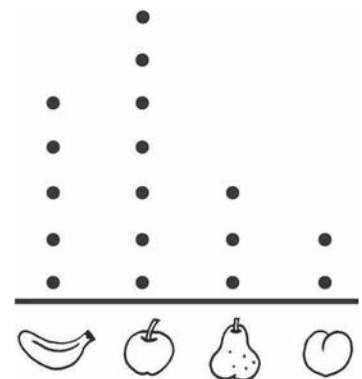
• Quantas caixas de bananas vendeu?

• Indica o tipo de fruta que vendeu em menor quantidade.

• E em maior quantidade? _____

• Quantas caixas de maçãs vendeu a mais do que de peras?

Fruta vendida na loja da Vera



• = 10 caixas de fruta

R.: Vendeu mais _____ caixas de maçãs do que de peras.

 **4** Efetua as adições.

$$42 + 36 = \boxed{}$$

$$\begin{array}{r} 40 + \underline{} \\ + 30 + \underline{} \\ \hline \underline{} + \underline{} = \underline{} \end{array}$$

$$34 + 27 = \boxed{}$$

 **5** Efetua as subtrações.


$$\begin{array}{l} 28 - 12 = 28 - 10 - \underline{} \\ = \underline{} - \underline{} \\ = \underline{} \end{array}$$

$$48 - 26 =$$

 **6** Observa o dinheiro que a Maria tem.



 • Conseguirá ela comprar uma camisola que custa 25 €? _____

 **7** No seu aniversário, a Maria recebeu 2 notas de 5 € e 3 moedas de 50 cêntimos. Que quantia de dinheiro recebeu?

R.: Recebeu _____.