

NOME: _____ DATA: _____ - _____ - _____

1 Decompõe os números de diferentes maneiras.

$20 + \underline{\quad}$	$30 + \underline{\quad}$
40	
$35 + \underline{\quad}$	$15 + \underline{\quad} + \underline{\quad}$

$\underline{\quad} + 5$	$30 + \underline{\quad}$
45	
$20 + \underline{\quad}$	$\underline{\quad} + \underline{\quad} + \underline{\quad}$

2 Escreve o número anterior e o número seguinte.

$\underline{\quad} < 35 < \underline{\quad}$ $\underline{\quad} < 40 < \underline{\quad}$ $\underline{\quad} < 51 < \underline{\quad}$

3 Liga corretamente.

52 •

3D 4U •

• Cinquenta e dois

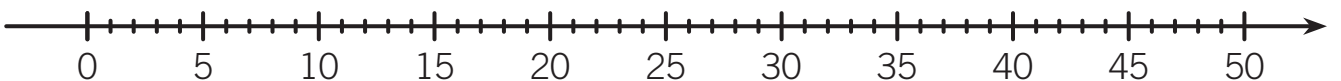
34 •

5D 2U •

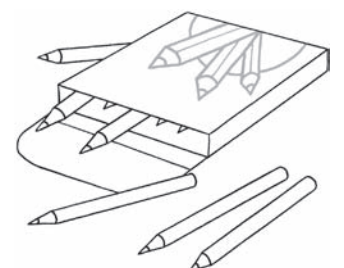
• Trinta e quatro

4 Calcula.

$26 + 22 = \underline{\quad}$

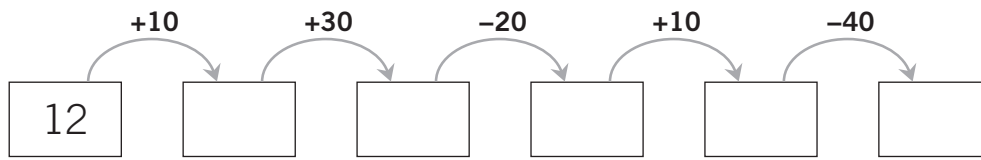


5 A Laura tem mais 13 lápis de cor que a Diana, que tem 25 lápis. Quantos lápis de cor tem a Laura?



R.: A Laura tem $\underline{\quad}$ lápis de cor.

 **6** Completa.



 **7** Assinala as afirmações que são verdadeiras.

$10 + 7 = 19$


$23 + 30 = 53$

$15 + 40 = 10 + 45$

$12 + 20 < 17 + 20$

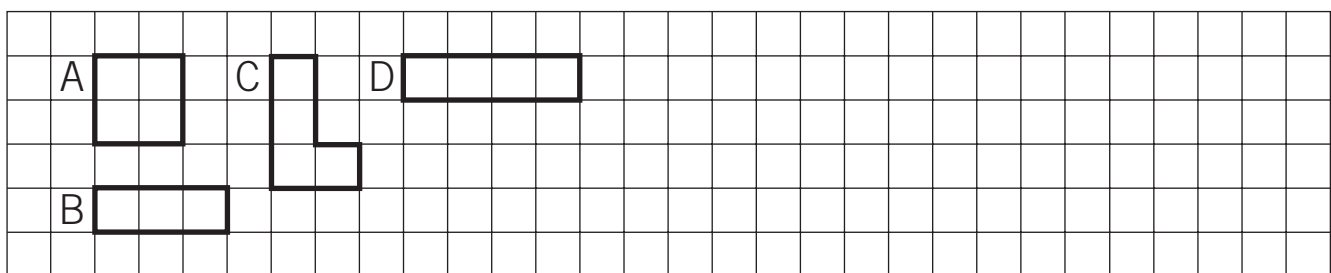
$10 + 40 > 12 + 30$

$27 + 10 > 15 + 20$

 **8** A Leonor tem 27 livros na sua estante. O seu irmão tem 30 livros. Ao todo quantos livros têm os dois irmãos?

R.: Têm _____ livros.

 **9** Observa as figuras.



 Indica a área de cada figura.

A: _____

B: _____

C: _____

D: _____

 Indica duas figuras equivalentes. _____ e _____

 Desenha no quadriculado um retângulo com área igual a 6 .