

NOME: _____ DATA: _____ - _____ - _____

 **1** Escreve os números por ordem crescente.


12 7 20 17 10 13

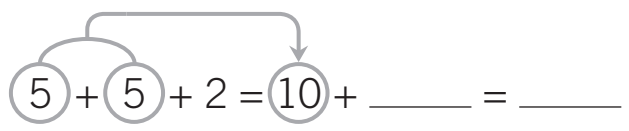
_____ < _____ < _____ < _____ < _____ < _____

 **2** Completa.

17	
10 + _____	5 + _____
7 + _____	15 + _____
19 - _____	_____ + 17

19	
10 + _____	18 + _____
15 + _____	8 + _____
20 - _____	_____ + _____

 **3** Agrupa os números cuja soma é a dezena e efetua as adições.

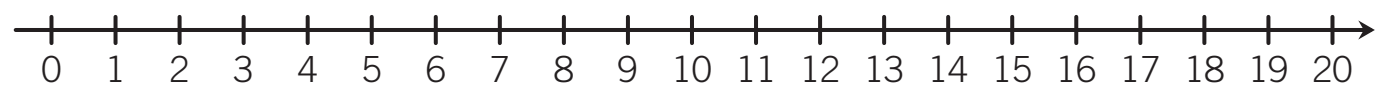

 $5 + 5 + 2 = 10 + _____ = _____ \quad 6 + 4 + 8 = _____ + _____ = _____$

$4 + 9 + 6 = _____ + _____ = _____ \quad 7 + 3 + 3 = _____ + _____ = _____$

$1 + 9 + 6 = _____ + _____ = _____ \quad 2 + 4 + 8 = _____ + _____ = _____$

 **4** Efetua a seguinte operação, usando a reta numérica.


$15 + 4 = _____$

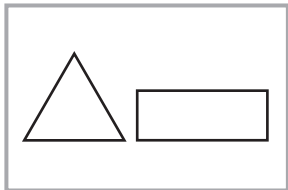


 **5** Escreve os números que vêm imediatamente antes e depois dos indicados.

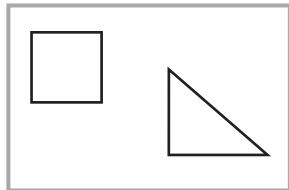
_____ 9 _____

_____ 19 _____

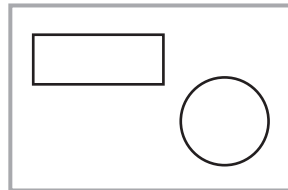
 **6** Observa os cartões A, B, C e D.



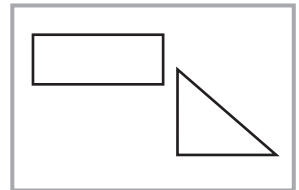
A



B



C



D

 • Escreve a letra que corresponde ao cartão descrito por cada menino.





Gonçalo

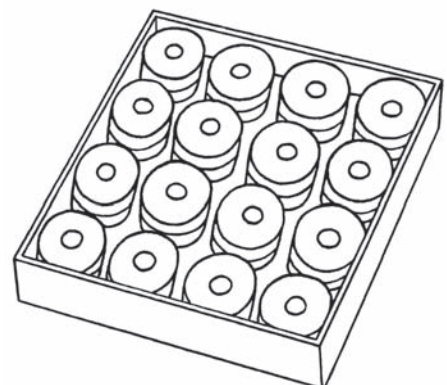


Mateus

 **7** Desenha de acordo com o padrão.



 **8** A Lúcia comprou uma embalagem com 16 rolos de serpentinas e lançou 5 ao ar. Com quantos rolos ficou?



R.: Ficou com _____ rolos de serpentinas.