




NOME: _____ DATA: _____ - _____ - _____

 **1** Forma conjuntos com 1 dezena de elementos.



 • Quantos conjuntos formaste?  • Quantos elementos sobraram?

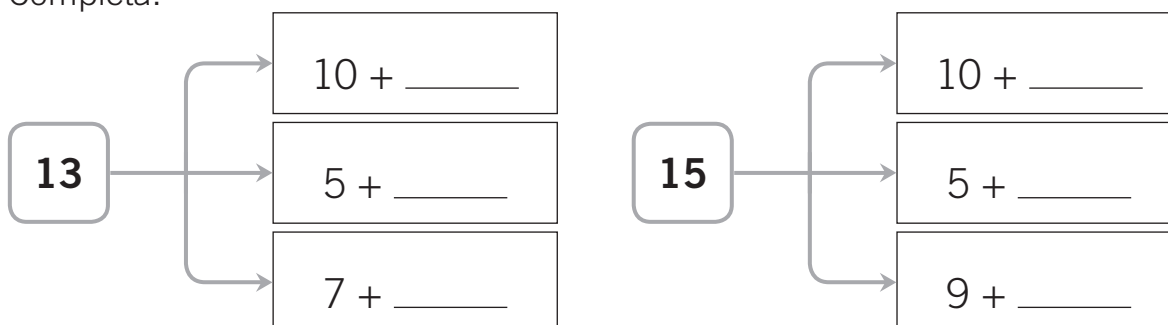
 • Quantos elementos faltam para poderes formar mais uma dezena? Explica como pensaste.


R.: Faltam _____ elementos.

 **2** Completa.

11	10 + _____	1 dezena e _____ unidade.
12	_____ + _____	_____ dezena e _____ unidades.
14	_____ + _____	_____ dezena e _____ unidades.

 **3** Completa.






-  **4** A Ana tinha 6 periquitos e 4 canários. Nasceram 5 novas crias de periquito. Com quantas aves ficou a Ana?

R.: Ficou com _____ aves.

- Se a Ana oferecer 3 crias de periquito aos seus amigos, com quantas crias ainda ficará?

R.: Ficaré ainda com _____ crias.

-  **5** Assinala as figuras de sólidos que só têm superfícies planas.



-  **6** Faz corresponder cada sólido ao seu nome, usando cores diferentes.



cubo



cilindro



esfera



paralelepípedo

-  **7** Completa com $>$, $<$ ou $=$.

$$12 + 3 \square 16 - 1$$

$$9 + 3 \square 15 - 4$$

$$13 - 5 \square 6 + 6$$