






NOME: \_\_\_\_\_ DATA: \_\_\_\_\_ - \_\_\_\_\_ - \_\_\_\_\_





 1 Faz as correspondências corretas, usando cores diferentes.

				
•	•	•	•	•
<input type="text" value="8"/>	<input type="text" value="9"/>	<input type="text" value="7"/>	<input type="text" value="5"/>	<input type="text" value="6"/>

 2 Escreve o número que vem **antes**, **entre** e **depois**.

<div style="position: absolute; left: 0; top: -5px;"> </div> <div style="position: absolute; left: 20%; top: -5px;"> </div> <div style="position: absolute; left: 40%; top: -5px;"> </div> <div style="position: absolute; left: 60%; top: -5px;"> </div> <div style="position: absolute; left: 80%; top: -5px;"> </div> <div style="position: absolute; left: 100%; top: -5px;"> </div> <div style="position: absolute; left: 10%; top: 10px;">□</div> <div style="position: absolute; left: 20%; top: 10px;">4</div> <div style="position: absolute; left: 40%; top: 10px;">5</div>	<div style="position: absolute; left: 0; top: -5px;"> </div> <div style="position: absolute; left: 20%; top: -5px;"> </div> <div style="position: absolute; left: 40%; top: -5px;"> </div> <div style="position: absolute; left: 60%; top: -5px;"> </div> <div style="position: absolute; left: 80%; top: -5px;"> </div> <div style="position: absolute; left: 100%; top: -5px;"> </div> <div style="position: absolute; left: 10%; top: 10px;">□</div> <div style="position: absolute; left: 20%; top: 10px;">6</div> <div style="position: absolute; left: 40%; top: 10px;">8</div>	<div style="position: absolute; left: 0; top: -5px;"> </div> <div style="position: absolute; left: 20%; top: -5px;"> </div> <div style="position: absolute; left: 40%; top: -5px;"> </div> <div style="position: absolute; left: 60%; top: -5px;"> </div> <div style="position: absolute; left: 80%; top: -5px;"> </div> <div style="position: absolute; left: 100%; top: -5px;"> </div> <div style="position: absolute; left: 10%; top: 10px;">□</div> <div style="position: absolute; left: 20%; top: 10px;">7</div> <div style="position: absolute; left: 40%; top: 10px;">8</div>
---	---	---

 3 Preenche as etiquetas.

<div style="border: 1px solid black; padding: 5px; display: inline-block;">  </div>	<div style="border: 1px solid black; padding: 5px; display: inline-block;">  </div>	<div style="border: 1px solid black; padding: 5px; display: inline-block;">  </div>	<div style="border: 1px solid black; padding: 5px; display: inline-block;">  </div>
<input type="text"/>	<input type="text"/> <input type="text"/>	<input type="text"/>	<input type="text"/> <input type="text"/>

 4 Seleciona números de cada linha para preencheres as igualdades.

<input type="text" value="6"/>	<input type="text" value="3"/>	<input type="text" value="4"/>	<input type="text" value="2"/>
<input type="text" value="9"/>	<input type="text" value="4"/>	<input type="text" value="3"/>	<input type="text" value="6"/>

<input type="text"/>	+	<input type="text"/>	=	<input type="text" value="8"/>
<input type="text"/>	-	<input type="text"/>	=	<input type="text" value="5"/>


-  **5** Regista o número de bombons de cada caixa.

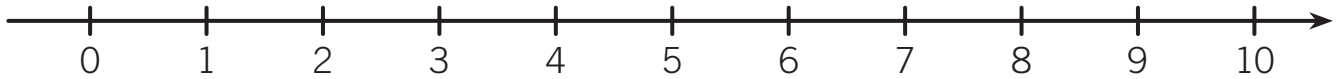


Caixa A  bombons.



Caixa B  bombons.

-  • Circunda, na reta, a azul, o número de bombons da caixa A e a verde o número de bombons da caixa B.



-  • Qual é a caixa que tem mais bombons? Assinala a opção correta.

Caixa A

Caixa B

-  • Quantos bombons há a mais nessa caixa? Regista como pensaste.

**R.:** Há a mais \_\_\_\_\_ bombons.

-  • Quantos bombons há nas duas caixas em conjunto? Regista como pensaste.

**R.:** Há \_\_\_\_\_ bombons.

-  **6** A mãe da Diana tinha 8 ovos e gastou 5 num bolo. Com quantos ovos ficou?

**R.:** Ficou com \_\_\_\_\_ ovos.