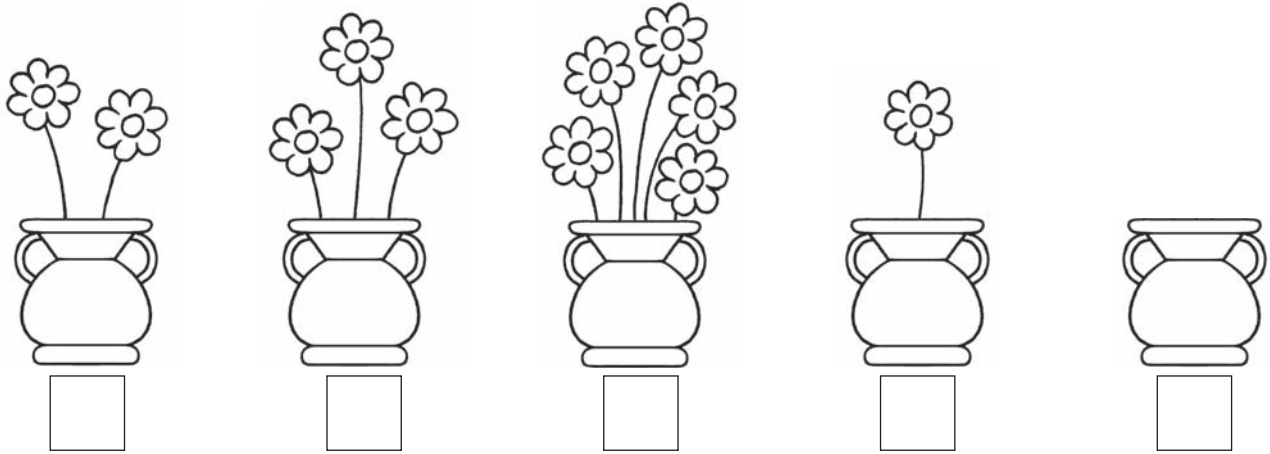
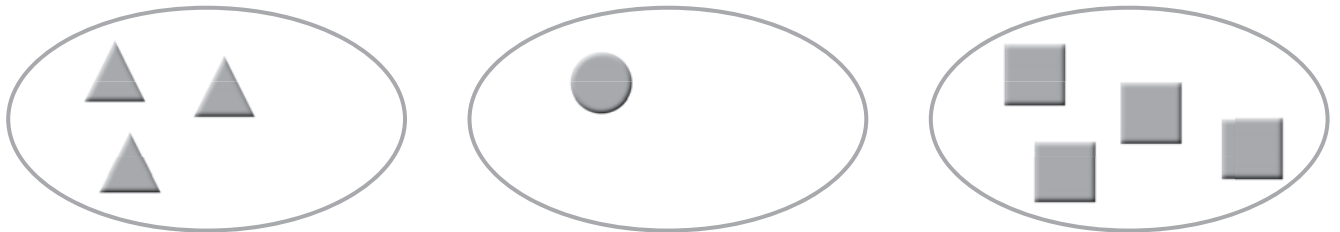


NOME: _____ DATA: _____ - _____ - _____

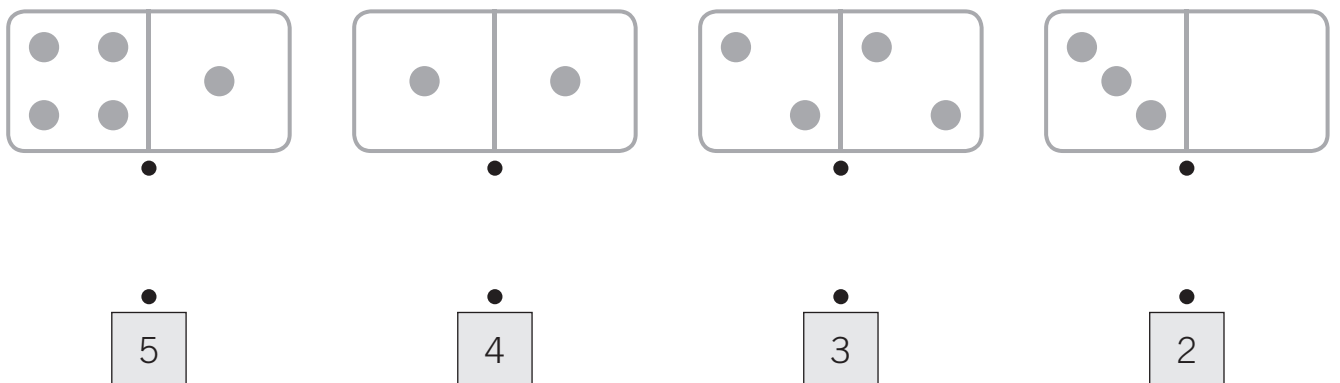
 1 Regista o número de flores de cada jarra.



 2 Desenha as figuras que faltam para ficarem 5 figuras em cada conjunto.



 3 Liga cada peça de dominó ao número total de pintas.



 4 Completa com >, < ou =.

2 ____ 3


5 ____ 4

2 ____ 2


4 ____ 2


 **5** Pinta da mesma cor os cartões que representam o mesmo número.


| | | | |
|---------|---------|--------|---------|
| três | $3 + 2$ | 3 | $1 + 2$ |
| $2 + 2$ | 5 | quatro | 4 |

 **6** Observa o pictograma, que regista o número de gatos dos alunos da escola do Tiago, organizados por anos de escolaridade.


Número de gatos dos alunos da escola



 • Quantos gatos têm os alunos do 1.º ano?

 • Qual é o ano de escolaridade em que os alunos têm mais gatos? Assinala a opção correta.

1.º ano 2.º ano 3.º ano 4.º ano

 • Quantos gatos têm ao todo os alunos do 1.º ano e do 4.º ano?

R.: Têm ao todo _____ gatos.